



المملكة العربية السعودية
وزارة التعليم
الإدارة العامة للتعليم بمحافظة جدة-بنات
إدارة الإشراف التربوي
قسم الدراسات الاجتماعية

Saudi Arabia



بنك الأسئلة

مادة الجغرافيا

الفصل الدراسي الأول لعام ١٤٤١-١٤٤٢ هـ

المرحلة الثانوية

الوحدة الأولى : علم الجغرافيا

السؤال الأول : إختاري الإجابة الصحيحة فيما يلي من فقرة (١ - ٩)

١	الجغرافيا كلمه أصلها	(أ) إغريقي	(ب) امريكي	(ج) عربي	(د) ايطالي
٢	البحار الذي استطاع اكتشاف العالم الجديد أو الأمريكيتين هو	(أ) كولومبس	(ب) ماجلان	(ج) فاسكو دي جاما	(د) هنري
٣	فرع من فروع الجغرافيا الطبيعية:	(أ) النقل	(ب) التربة	(ج) العمران	(د) الطبية
٤	يعتني بدراسة الاختلافات المكانية وتوزيع الظواهر الطبيعية والبشرية هو علم	(أ) التاريخ	(أ) الجغرافيا	(ج) الجيولوجيا	(د) الفلك
٥	وحدة او مساحة من سطح الأرض ذات خصائص معينة تكسبها التجانس داخليا وتميزها خارجيا عما جاورها	(أ) الإقليم	(ب) السطح	(ج) التخطيط	(د) الجغرافيا
٦	أسلوب الحتمية البيئية تؤمن بسيادة	(أ) الانسان	(ب) البيئة الطبيعية	(ج) الظواهر الفلكية	(د) الكائنات
٧	العالم المسلم الذي أسس الاسطرلاب هو	(أ) الخوارزمي	(ب) الفرغاني	(ج) أبو الفداء	(د) أبو عيسى
٨	اول من لاحظ ان السفر حول الأرض يؤدي الي زيادة يوم او نقصه العالم المسلم	(أ) أبو الفداء	(ب) الخوارزمي	(ج) المقدسي	(د) الفرغاني
٩	دخل البرتغاليون المحيط الهندي عام ١٤٩٧م وعبروا رأس الرحاء الصالح بقيادة	(أ) ماجلان	(ب) فاسكو دي جاما	(ج) هنري الملاح	(د) كولمبس

السؤال الثاني : سؤال الصواب والخطأ من الفقرة (١ الى ١١)

الإشارة	ضعي إشارة (صح) أمام العبارة الصحيحة (وخطأ) أمام العبارة الخاطئة
	١- الحتمية البيئية نظره فلسفيه تؤمن بسيادة تحكم البيئة الطبيعية بالظواهر البشرية.
	٢- كتاب المسالك والممالك في الجغرافيا الإقليمية للمقدسي.
	٣- النظرية الإمكانية نظريه جغرافية فلسفيه تؤمن بحرية البشر في الاختيار
	٤- أشهر العلماء المسلمين في علم الفلك هو أبو عيسى الإسطرلاب
	٥- فرائض الإسلام عامل من عوامل ازدهار الجغرافيا في العالم الإسلامي
	٦- الخوارزمي وضع جداول رياضية ساعدت في الحسابات الفلكية
	٧- تعد الجغرافيا الطبية من فروع الجغرافيا الطبيعية
	٨- القدرة على رسم الخرائط وقراءتها وفهمها من المهارات الجغرافية المكتسبة
	٩- تتميز الجغرافيا عن معظم العلوم بالنظرة المحدودة المرتبطة بالمكان
	١٠- تعتمد الجغرافيا الحيوية على علم النبات وعلم التربة
	١١- تخلف أوروبا عن المعارف الجغرافية في القرن الخامس عشر يعود لتوجه الناس للكنيسة

السؤال الثالث : أكمل الفراغات بما يناسبها

- ١- يعود ازدهار علم الجغرافيا عند المسلمين لعوامل منها و.....
- ٢- عالجت المصنفات الفلكية أمور هامة منها و.....
- ٣- للجغرافيا الطبيعية فروع منها و.....
- ٤- السنة التي يضاف فيها يوم الي شهر فبراير هي بالسنة

السؤال الرابع : اقربي العمود (أ) العلماء المسلمين بالعمود (ب) أهم مؤلفاتهم وذلك بترقيم العبارات

(ب)	الترقيم	(أ)
المسالك والممالك		١- ابن حوقل
تقويم البلدان		٢- المقدسي
صورة الأرض		٣- ابن فضل الله العمري
أحسن التقاسيم		٤- البكري
		٥- ابو الفداء
		٦- الفرغاني

السؤال الخامس : أجيب عن المطلوب فيما يأتي (مقالي من ١ الى ١٢)

- ١- فسر جغرافيا ما يأتي:
- ٢- ازدهار علم الجغرافيا عند المسلمين
- ٣- تمتاز الجغرافيا بالنظرة الشمولية للأشياء
- ٤- (صممي) خارطة مفاهيم لفروع الجغرافيا الطبيعية
- ٥- (صممي) خارطة مفاهيم لفروع الجغرافيا البشرية
- ٦- هل توافين على ما يأتي مع ذكر السبب
١/ تخلف أوروبا عن المعارف الجغرافية في القرن الخامس عشر.
٢/ أسلوب الحتمية البيئية يؤمن بحرية البشر وسيادتهم .
- ٧- ما النتائج الجغرافية المترتبة على ما يأتي
١/ الكشوفات الجغرافية في القرن الخامس عشر
٢/ دراسة علم الجغرافيا

تابع السؤال الخامس : أجبني عن المطلوب فيما يأتي (مقالي)

٨- انسب الكتب التالية الى مؤلفيها.

المؤلف	الكتاب
	صورة الارض
	تقويم البلدان
	المسالك والممالك
	احسن التقاسيم في معرفة الاقاليم

٩- عرفني مفهوم الجغرافيا ؟

١٠-فسري انحطاط الفكر الجغرافي عند الاوربيين في العصور الوسطى.

١١- مثلي لعلماء مسلمين برعوا في مجال الجغرافيا الفلكية؟

١٢-صنفي فروع الجغرافيا التالية:

الفرع	نوعه
الجغرافيا الفلكية	
الجغرافيا المناخية	
الجغرافيا السياسية	
الجغرافيا الاقتصادية	

أنتهت الوحدة الأولى

الوحدة الثانية : الكون





السؤال الأول : إختاري الإجابة الصحيحة فيما يلي من فقرة (١ - ١١)

١	أقرب الكواكب إلى الشمس هو كوكب :			
	(أ) الزهرة	(ب) الأرض	(ج) المريخ	(د) عطارد
٢	أكثر الكواكب من حيث عدد التابع:			
	(ب) زحل	(ب) المشتري	(ج) الزهرة	(د) اورانوس
٣	النقطة التي تكون فيها الأرض في ابعد مسافة عن الشمس وذلك في يوليو من السنة الميلادية هي نقطة			
	(أ) الرأس	(ب) الذيل	(ج) المنتصف	(د) الثلاثي
٤	يبلغ عدد الكواكب التي تدور حول الشمس:			
	(ت) خمسة	(ب) سبعة	(ج) ثمانية	(د) عشرة
٥	أول جرم سماوي حط عليه الانسان بعد الأرض :			
	(أ) القمر	(ب) المشتري	(ج) عطارد	(د) المريخ
٦	في منتصف الشهر يصبح القمر:			
	(أ) محاقاً	(ب) هلالاً	(ج) أحذب	(د) بدرأ
٨	مقدار ميل محور الأرضدرجة			
	(أ) ٢٢,٥	(ب) ٢٣,٥	(ج) ٦٦,٥	(د) ٩٠
٩	اكتشفت اجرام الكويزار في مطلع:			
	(أ) الاربعينات	(ب) الستينات	(ج) السبعينات	(د) الثمانينات
١٠	يعد مركز المجموعة الشمسية باسرها:			
	(أ) القمر	(ث) الارض	(ج) الشمس	(د) المريخ
١١	قطع من الصخر والحديد والنيكل تأتي من الفضاء الكوني متجهة نحو الأرض وتحترق في الغلاف الخارجي هي			
	(أ) الشهب	(ج) النيازك	(ج) المذنبات	(د) الكويكبات

السؤال الثاني : سؤال الصواب والخطأ من فقرة (١ الى ١٩)

الإشارة	ضعي إشارة صح أمام العبارة الصحيحة وإشارة خطأ أمام العبارة الخاطئة :
	١- تعد الكواكب ذاتيه الضوء
	٢- يوجد تباين في أحجام النجوم وإشعاع طاقتها
	٣- أشهر المذنبات هو مذنب هالي
	٤- يحدث خسوف القمر بسبب سقوط ظل الأرض عليه
	٥- التليسكوب هو منظار لرصد الأشياء البعيدة
	٦- تدور الشمس حول نفسها من الغرب الي الشرق عكس عقارب الساعة
	٧- كلما بعد الكوكب عن الشمس زاد طول مداره
	٨- الشعري اليمانية أكثر النجوم لمعانا
	٩ الأرض تدور في الفضاء مع غلافها الجوي.
	١٠ تكمل الأرض دورتها حول الشمس في سنتان.
	١١ محور الأرض ثابت لا يتغير.
	١٢ تعاقب الليل والنهار من نتائج دوران الأرض حول الشمس.
	١٣ الأرض كره تامة التكوير.
	١٤ المذنبات اجرام سماوية تدور حول المجرة في مدارات ببيضاوية مختلفة
	١٥ يقطع القمر دورته حول الأرض في ٣٠ يوما ونصف اليوم
	١٦ سكان الأرض يرون وجهان للقمر
	١٧ يطلق على تجمعات النجوم الكويزار
	١٨ سرعة دوران الأرض عند خط الإستواء أقل من سرعتها عند القطبين
	١٩ تتركز في المملكة العربية السعودية حقول النفط الكبرى والمياه الجوفية في مناطق الصخور النارية

السؤال الثالث : (المزاوجة) اقربى العمود (أ) بالعمود (ب) بترقيم مسميات أوجه القمر مع الصور

(ب)	الترقيم	(أ)
		١- البدر
		٢- النربيع الأول
		٣- الاحدب الثاني
		٤- الهلال الأول

السؤال الرابع : أكمل الفراغ بما يناسبه جغرافياً:

١. يتحكم في مسار الأرض قوتان هما و
٢. تدور الأرض حول الشمس مدة يوماً
٣. تنقسم الاجرام السماوية الي عدة فئات منها و
٤. مجموعه هائلة من النجوم والاقمار والمذنبات والسدم هي —
٥. أجرام تدور حول الشمس في مدارات بيضاوية متغيرة هي —
٦. مجموعه من الاجرام الصغيرة التي تقع بين كوكبي المريخ والمشتري هي
٧. تحدث ظاهرة الكسوف عند وقوع بين الأرض و.....

تابع السؤال الرابع :أكملي

٨. قطع من الحديد والنيكل التي تسقط على سطح الأرض تسمى

٩. يعتبر نجم مركزا للمجموعة الشمسية .

١٠ أقرب نقطة للأرض من الشمس نقطة وتسمى أبعد نقطة من الشمس

السؤال الخامس : أجيبي عن المطلوب مما بين الأقواس (مقالى من ١ الى ١٠)

١- رتب كواكب المجموعة الشمسية حسب القرب من الشمس بإعادة كتابتها مرتبة

	المريخ
	زحل
	المشتري
	عطارد
	الأرض
	الزهرة
	اورانوس
	نبتون

٢- فسر جغرافيا ما يأتي:

اختلاف درجة لمعان النجوم في السماء؟

طول عام الكواكب الأبعد عن الشمس؟

احتراق الشهب بالكامل

شكل وجه القمر لا يختلف أبدا للراصد على سطح الأرض؟

أشعة الشمس تشرق على البلاد الشرقية قبل الغربية؟

استبعاد كوكب بلوتو من مجموعة الكواكب الشمسية

سميت مجرة درب التبانة عند العرب بهذا الاسم

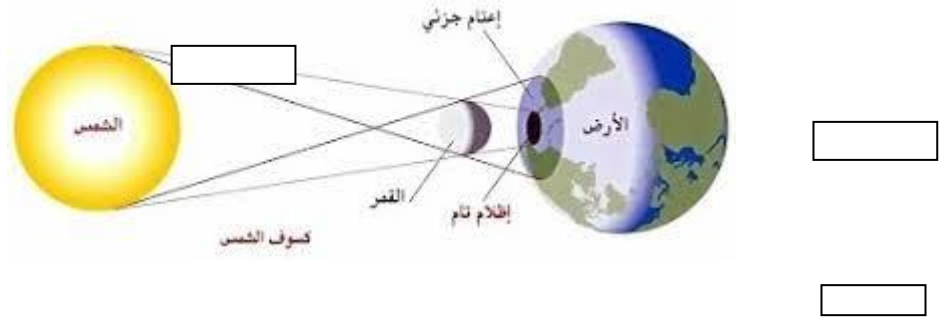
الغاء بلوتو من تصنيف الكواكب

حدوث ظاهرة الكسوف

تابع السؤال الخامس : أجبني عن المطلوب فيما يأتي (مقالي)

فسري : تسمية مجرة درب التبانة بهذا الاسم
قصر عام الكواكب القريبة من الشمس من عام الأرض
أهمية ميل محور الأرض
تسمية الربيع والخريف بالاعتدالين
١٦- نشأة جبال الهماليا

١- امامك رسم توضيحي لظاهرة الكسوف أكمل كتابة البيانات على الرسم



٢- قارني بين كلا من الكوكب والنجم من حيث الحجم والضوء

النجم	الكوكب	وجه المقارنة
		الحجم
		الضوء

٣- ميزي بين مجموعة الكواكب ومجموعة كواكب البلوتويد ؟

٤- دلي على دوران الأرض ؟

٥- عددي صفات مجموعة الكواكب

الوحدة الثالثة: كوكب الأرض

السؤال الأول: أختاري الإجابة الصحيحة مما بين الأقواس فيما يلي من فقرة (١ الى ١٠)

١	هي النقطة التي تكون فيها الأرض في أبعد مسافة عن الشمس. وذلك في ٤ يوليو من السنة الميلادية:			
	(أ) نقطة الرأس	(ب) نقطة الذيل	(ج) السنة الكبيسة	(د) مدار الجدي
٢	خط وهمي يمر بمركز الأرض ويمتد من الشرق الي الغرب.			
	(ت) جرينتش	(ث) الجدي	(ج) السرطان	(د) الاستواء
٣	القطر الاستوائي أطول من القطر القطبي بنحو			
	(أ) ٤٥ كم	(ب) ٤٣ كم	(ج) ٤٦ كم	(د) ٤٨ كم
٤	شكل الأرض.....:			
	(ج) كروي	(ب) مستوى	(ج) منبسط	(د) ببيضاوي
٥	تقدر مساحة سطح الكرة الارضية			
	(أ) ٧٥ الف كم	(ب) ٥١٠ ملايين كم	(ج) ٥٨٠ ملايين كم	(د) ٤٥٠ مليون كم
٦	تدور الأرض حول محورها دوره واحده كل			
	(أ) ٤٨ ساعة	(ب) ١٢ ساعه	(ج) ٦ ساعات	(د) ٢٤ ساعة
٧	لكون الأرض أقرب الي الشكل البيضاوي منه إلي الشكل الدائري فإن للأرض			
	(أ) ٣١ مراكز	(ب) مركزان	(ج) ٤ مراكز	(د) مركز واحد
٨	مقدار ميل محور الأرض:			
	(أ) ٢٢,٥	(ب) ٢٣,٥	(ج) ٦٦,٥	(د) ٩٠
٩	يحدث الانقلاب الشتوي في			
	(أ) ٢٥١ ديسمبر	(ب) ٢٣ ديسمبر	(ج) ٢٢ ديسمبر	(د) ٢٤ ديسمبر
١٠	الجزء الذي يظهر لنا أن السماء تلتقي مع الأرض يسمى			
	(أ) الشفق	(خ) الافق	(ج) الواسع	(د) التوافق

السؤال الثاني : (اخطأ والصواب) من الفقرة (١ الى ١٣)

الإشارة	ضعي إشارة صح أمام العبارة الصحيحة وإشارة خطأ أمام العبارة الخاطئة
	١- الكرة الأرضية مفلطحة عند خط الاستواء ومنبجعة عند القطبين
	٢- لو كان محور الأرض عمودياً لتساوى الليل والنهار
	٣- الأرض كرة تامة التكوين
	٤- مجل الصيف في نصف الكرة الجنوبي عندما تتعامد أشعة الشمس على مدار السرطان
	٥- يتحكم في مسار الأرض فوتان هما قوة جاذبية الشمس وقوة الطرد المركزية
	٦- زيادة وزن الأشياء عند خط الاستواء عن وزنها عند القطبين
	٧- المحيط القطبي أطول من المحيط الاستوائي
	٨- دوران الأرض حول الشمس أحد أسباب حدوث الفصول الأربعة
	٩- الأرض تدور في الفضاء مع غلافها الجوي.
	١٠- تكمل الأرض دورتها حول الشمس في سنتان.
	١١- محور الأرض ثابت لا يتغير.
	١٢- تعاقب الليل والنهار من نتائج دوران الأرض حول الشمس
	١٣- تنحرف الرياح الي يمين اتجاهها في نصف الكرة الجنوبي.

السؤال الثالث : أكمل الفراغات بما يناسبها

- ١- للأرض ثلاث حركات هي و و
- ٢- ما يضاف فيها يوم الي شهر فبراير تعرف بالسنة
- ٣- من أسباب حدوث الفصول الأربعة و
- ٤- يحدث الانقلاب الشتوي عندما تتعامد أشعة الشمس على مدار في ديسمبر
- ٥- محور الأرض مائل بمقدار
- ٦- من نتائج حركة الأرض حول الشمس و

السؤال الرابع : أجبني عن المطلوب فيما يأتي (مقالي من ١ الى ٤)

- ١- برهن على صحة هذه العبارة: الأرض ليست كره تماما؟
- ٢- رتب المدن التالیه من حيث شروق الشمس عليها أولا:
الدمام - مكة - الرياض - بريدة - حائل -
- ٣- فسر جغرافيا ما يأتي:
١- زيادة وزن الأشياء عند القطبين عن وزنها عند خط الاستواء؟
٢- الأرض ليست كره تامة التكویر
- ٣- لا يشعر الانسان بحركة الأرض اثناء دورانها
- ٤- حدوث الفصول الأربعة؟
- ٥- للأرض مركزان؟
- ٤- - طالبتي المبدعة تخيلي لوكان محور الأرض ثابتا ماذا سيحدث؟

انتهت أسئلة الوحدة الثالثة

الوحدة الرابعة: الغلاف الصخري

السؤال الأول : (اختيار من متعدد) اختاري الإجابة الصحيحة فيما يلي من فقرة ١ الى ١٢

١	الغطاء الخارجي ا لصلب الذي يحيط بالكره الأرضية ويرتكز على باطنها ويتألف من طبقات سميكة من الصخور يسمى:	(أ) النواة	(ب) الوشاح	(ج) القشرة الأرضية	(د) غطاء النواة
٢	النواة الداخلية للأرض.....:	(أ) أقرب إلى الصلابة	(ب) أقرب إلى السيولة	(ج) صلبه جدا	(د) سائله
٣	أجزاء واسعة من الأرض المرتفعة من سطح البحر ويغلب على سطحها الاستواء تعرف ب	(أ) السهول	(ب) الوديان	(ج) الجبال	(د) الهضاب
٤	عند اصطدام صفيحة قارية مع صفيحة أخرى لا تغوص وحده منهما لأنها متساويتا الكثافة وبذلك تتكون	(أ) سلسلة جبلية موازية	(ب) لجبال الالتوائية	(ج) اخاديد	(د) هضاب
٥	هزات سريعة تصيب القشرة الأرضية في فترة زمنية قصيرة وتعتبر من أكثر الكوارث تأثيرا على الانسان بسبب حدوثها المفاجئ	(أ) البراكين	(ب) الزلازل	(ج) الالتواءات	(د) الانكسارات
٦	أهم عوامل تشكيل سطح الأرض الخارجية :	(أ) الالتواءات	(ب) الصدوع	(ج) الجبال	(د) التعرية
٨	عمليات تفكك الصخر إلى مفتتات صغيرة الحجم دون تغيير تركيبه المعدني يعني	(أ) التعرية	(ب) التجوية الكيميائية	(ج) النحت والإرساب	(د) التجوية الميكانيكية
٩	العوامل التي تساعد على عملية التعرية.	(أ) الصخور	(ب) التيارات المحيطية	(ج) الجبال	(د) المياه الراكدة
١٠	يتم رصد الزلازل بواسطة جهاز:	(أ) البار وجراف	(ب) الترمومتر	(د) التليجراف	(د) السيسمو جراف
١١	تبلغ مساحة اليابس حوالي	(أ) ٤٥%	(ب) ٥٥%	(د) ٢٩%	(د) ٧١%
١٢	يقصد ب هي الأراضي العالية التي ترتفع بضع مئات او الآف الأمتار ويكون لها جوانب شديدة الانحدار:	(أ) الهضاب	(ب) السهول	(ج) الأودية	(د) الجبال

السؤال الثاني : (سؤال الصواب والخطأ من فقرة ١ الى ١٣)

الإشارة	ضعي إشارة صح أمام العبارة الصحيحة وإشارة خطأ أمام العبارة الخاطئة
	١- يتكون الوشاح من صخور قاعدية عظيمة الكثافة وشديدة الصلابة
	٢- تتركز في المملكة حقول النفط الكبرى والمياه الجوفية في مناطق الصخور الرسوبية
	٣- نشأة جبال الأنديز بسبب تصادم صفيحتان قاربتان فلا تفوص واحدة منهم
	٤- الرياح أكثر عوامل النحت أثرا في تشكيل سطح الأرض
	٥- يظهر أثر الجليد المتحرك في المناطق الجبلية كجبال الألب والهمالايا
	٦- من مظاهر التصحر زيادة ملوحة التربة والمياه
	٧- تنشأ الجبال الانكسارية من طبقات الصخور الرسوبية
	٨- يشترط أن يكون السهل تام الاستواء
	٩ تتركز في المملكة حقول النفط الكبرى في مناطق الصخور النارية
	١٠ تفسر نظرية الصفائح التكتونية حركة الغلاف الجوي
	١١ تساعد الأنشطة البشرية على تفاقم التصحر وانتشاره
	١٢ من شواهد البراكين الثائرة قديما في المملكة العربية السعودية الحرات التي في المدينة المنورة
	١٣ الكرة الأرضية تنقسم الى طبقتين فقط

السؤال الثالث : (سؤال المزاجية)أختاري من العمود أ مايناسبه من العمود ب (من ١ الى ٤)

م	(أ)	الفقرة الصحيحة	(ب)
١	الهضاب	أ	الأراضي العالية التي ترتفع بضع مئات او الالف الامتار
٢	الجبال	ب	الأراضي المستوية التي ليس بها مرتفعات كبيره تغير من مظهرها العام
٣	السهول	ج	مجار مستطيله منخفضه وضيقه يحفها عادة اراض مرتفعة على الجانبين
٤	الأودية	د	أجزاء واسعة من الأراضي المرتفعة عن سطح البحر ويغلب على سطحها الارتفاع
٥		هـ	جزء من البحر داخل اليابسة
٦		و	جزء من اليابس داخل في البحر

السؤال الرابع : أكمل الفراغات بما يناسبها

- ١- تنقسم العمليات الباطنية المؤثرة في تشكيل سط الأرض إلى عوامل مثل وعوامل مثل
- ٢- تصنف الهضاب من حيث النشأة والتكوين إلى عدة أنواع منها و
- ٣- عملية تفكيك الصخر وتفثته ميكانيكيا أو تحلله كيميائيا تسمى —
- ٤- من آثار البراكين و
- ٥- تفسر نظرية الصفائح التكتونية حركة
- ٦- هي المناطق التي تتفرق عندها الصفائح تاركة فراغا بينها.
- ٧- هي مجار مستطيله منخفضه وضيقه يحفها عادة اراض مرتفعة على الجانبين
- ٨- تقسم السهول الي ثلاثة أنواع هي و و
- ٩- يتكون الغلاف الصخري من مجموعات مختلفة من الصخور وهي و
- ١٠- هي المناطق التي تلتقي عندها الصفائح.
- ١١- من انواع الجبال الالتوائية و
- ١٢- هي هزات سريعة تصيب أجزاء من القشرة الأرضية في مده قصيره.
- ١٣- هي فتحات في قشرة الأرض تصل باطنها الشديد الحرارة بسطحها البارد
- ١٤- النقطة التي يحدث بها الزلزال وتكون على عمق عدة كيلو مترات تسمى
- ١٥- من الظواهر الناشئة عن نحت الجليد تكون
- ١٦- من الظواهر الناتجة عن عمليات الارساب و
- ١٧- من أمثلة الحرات البركانية في المملكة العربية السعودية حرة و حرة

السؤال الخامس : أجبني عن المطلوب فيما يأتي (مقالي من ١ الى ٣)

١- فسر جغرافيا ما يأتي:

١- تعدد الزلازل من أكثر الكوارث تأثيرا في الانسان؟

٢ يبرز أثر الرياح وقدرتها على النحت في المناطق الجافة؟

٣- تعتبر المياه الجارية أكثر عوامل النحت أثرا في تشكيل سط الأرض؟

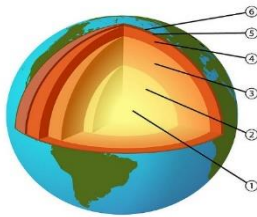
٤- حدوث الزلازل والبراكين؟

٢- صنف ما يلي حسب المطلوب بالجدول:

تهامة = التبت - الشطوط - الهيمالايا - الدكن - روكي - البراري - الألب.

السهول	الهضاب	الجبال

٣- أمامك مصور للكرو الأرضية دون عليها طبقات الأرض حسب المطلوب



انتهت أسئلة الوحدة الرابعة

الوحدة الخامسة : الغلاف المائي

السؤال الأول : أختيار من متعدد

إختاري الإجابة الصحيحة فيما يلي من فقرة (١ - ٩)

١	تبلغ نسبة المياه العذبة على سطح الأرض %	(أ) ٢,٥ %	(ب) ٣,٥ %	(ج) ٦,٥ %	(د) ٤,٥ %
٢	نسبة المياه المالحة على سطح الأرض%	أ- ٩٥,٥	(ب) ٩٦	(ج) ٩٧,٥	(د) ٩٩
٣	للمياه العذبة مصادر على سطح الأرض منها :	(أ) البحار	(ب) الخلجان	(ج) المحيطات	(د) الكتل الجليدية
٤	للمياه المالحة على سطح الأرض مصادر منها :	(أ) الأنهار	(ب) المحيطات	(ج) الأودية	(د) المياه الجوفية
٥	أكبر المحيطات على سطح الأرض هو المحيط	(أ) الهندي	(ب) الهادي	(ج) الأطلسي	(د) المتجمد الشمالي
٦	أصغر المحيطات على سطح الأرض هو المحيط	(أ) الأطلسي	(ب) الهندي	(ج) المتجمد الشمالي	(د) المتجمد الجنوبي
٧	يعد من البحار الداخلية :	(أ) البحر المتوسط	(ب) البحر الميت	(ج) البحر الأحمر	(د) البحر الأسود
٨	من البحار الهامشية :	(أ) البحر الأحمر	(ب) البحر المتوسط	(ج) بحر العرب	(د) بحر قزوين
٩	تعتبر من البحار المتوسطة :	(أ) الأحمر	(ب) الكاريبي	(ج) اليابان	(د) قزوين
١٠	يكون المد عالي عندما يكون القمر في مرحلة	(أ) تربع الأول	(ب) أحدب أول	(ج) هلال جديد	(د) أحدب ثاني
١١	يكون المد منخفض في الربع الأول والثاني من الشهر القمري في يومي :	(أ) ٢٢,٥	(ب) ٢١,٧	(ج) ١٩,١٢	(د) ١٤,٢
١٢	ينتج عن حركة الماء الصاعدة والهابطة بفعل هبوب الرياح حدوث :	(أ) التيارات البحرية	(ب) المد والجزر	(ج) الأمواج	(د) التيارات المحيطية

السؤال الثاني : أكمل الفراغات التالية بما يناسبها :

- ١- تبلغ نسبة المياه على سطح الأرض .
- ٢- تبلغ نسبة المياه المالحة على سطح الأرض
- ٣- أنواع المياه على سطح الأرض
- ٤- المياه العذبة على سطح الأرض مصادر منهاو.....
- ٥- للمياه المالحة على سطح الأرض مصادر منهاو.....
- ٦- يسمى أمتداد المحيطات داخل اليابس
- ٧- للبحار أنواع منهاو.....
- ٨- تسمى الأذرعة الممتدة من البحار في اليابس بـ
- ٩- تسمى الأمواج الناتجة عن الزلازل بـ.....
- ١٠- تعرف حركة البحر الأفقية على السواحل بقدر معلوم بـ.....
- ١١- تحدث حركة المد والجزر بسبب جذبو.....
- ١٢- يعرف أقصى ارتفاع يبلغه سطح البحر بـ.....وإدنى انخفاض بـ.....
- ١٣- يختلف ارتفاع المد والجزر وانخفاضهما تبعاً لاختلافوطبيعة

السؤال الثالث : الخطأ والصواب من (١ الى ٢٤)

الإشارة	ضعي إشارة صح أمام العبارة الصحيحة وإشارة خطأ أمام العبارة الخاطئة
١-	تبلغ نسبة المياه العذبة على سطح الأرض ٢٪
٢-	تبلغ نسبة المياه المالحة على سطح الأرض ٩٨,٥
٣-	تعد الكتل الجليدية من مصادر المياه المالحة على سطح الأرض
٤-	تسمى امتدادات المحيطات داخل اليابس بالخلجان
٥-	الخلجان والبحار أجزاء من المحيطات
٦-	تتصل البحار الهامشية بمياه المحيطات عبر مضائق صغيرة
٧-	تشبه مياه البحار المتوسطة مياه المحيطات لانفتاحها عليها
٨-	بحر العرب وبحر اليابان من البحار المتوسطة

٩-	يعد بحر قزوين بقارة آسيا من البحار الداخلية
١٠-	يقاس ارتفاع الموجه من قاعها الى قمته
١١-	تتأثر أمواج البحار بالزلازل والبراكين
١٢-	تهاجم تسونامي سواحل البحار بسرعة ٢٥٠ كم
١٣-	أفضل دفاع ضد التسونامي الإنذار المبكر وإخلاء المكان
١٤-	خسائر التسونامي أشد من خسائر الزلازل نفسه
١٥-	يعرف أقصى ارتفاع يبلغه سطح البحر بالجزر
١٦-	الشمس أقوى تأثير في حالة المد والجزر من القمر
١٧-	يحدث المد المنخفض عندما تكون الشمس والأرض والقمر زاوية قائمة
١٨-	يحدث المد المرتفع عندما يكون الشمس والقمر والأرض على مستوى واحد
١٩-	إزالة الرواسب من مصبات الأنهار من فوائد المد والجزر
٢٠-	تستخدم الدول مياه المد لتوليد الطاقة الشمسية
٢١-	تكثر الأسماك أثناء الجزر لما تجلبه المياه من احياء دقيقة
٢٢-	تشكل المحيطات نحو ٩٠٪ من سطح الأرض
٢٣-	تعتمد الدول التي تمتلك المياه العذبة على تحلية المياه
٢٤-	عند معالجة المياه من الملوثات تنتزع منها انتزاعا كاملا

السؤال الثالث : أجبني عن المطلوب مما يأتي (مقالى من ١ الى ٨)

- ١- هاتي تفسيراً مناسباً لما يأتي :
أ-نشأة ظاهرة المد والجزر
ب-مياه البحار في حركة مستمرة

تابع السؤال الثالث : (مقالي)

- ٢- صممي خارطة معرفية لمصادر المياه على سطح الأرض .
٣- مثلي لما يأتي : أ-بحار داخلية. ب- بحار مفتوحة . ج-بحار مغلقة .
د-بحار شبه مفتوحة.
٤- عرفني المحيطات .
٥- قارني بين البحار والخلجان :

البحار	الخلجان

٦- رتبي المحيطات من الأصغر الى الأكبر :

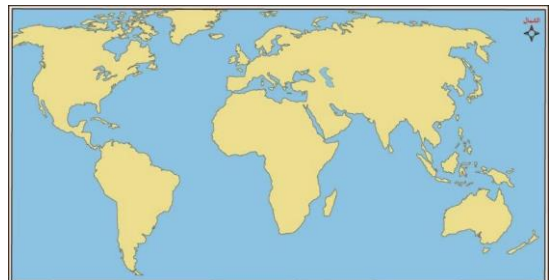
المحيطات	
المحيط الهادي	١
المحيط الهندي	٢
المحيط المتجمد الشمالي	٣
المحيط الأطلسي	٤
المحيط المتجمد الجنوبي	٥

٧-صنفي المد والجزر حسب تواريخ الشهر القمري :

مد منخفض	مد عالي

(هلال جديد – الربع الأخير ٢١- الرابع عشر من الشهر – الربع الأول اليوم السابع)

٨-حددي على الخارطة السماء المحيطات المائية على سطح الأرض :



أنتهت أسئلة الوحدة الخامسة

الوحدة السادسة : الغلاف الجوي

السؤال الأول : الاختيار من متعدد من فقرة (١ - ٢٥) :

أختاري الإجابة الصحيحة مما بين الأقواس :			
١	يبلغ سمك الغلاف الجوي -----كم	أ- ٥٠٠٠	ب- ٦٠٠٠
		ج- ٨٠٠٠	د- ١٠٠٠٠
٢	غلاف سميك يحيط بالكرة الأرضية من جميع الجهات هو الغلاف :	أ- المائي	ب- الصخري
		ج- الجوي	د- الحيوي
٣	تبلغ نسبته ٧٨٪ من الغازات المكونة للغلاف الجوي :	أ- الأكسجين	ب- النيتروجين
		ج- ثاني أكسيد الكربون	د- الأرجون
٤	تتركز الغازات المكونة للغلاف الجوي في طبقة :	أ- العليا	ب- الوسطى
		ج- الخارجية	د- السفلى
٥	تمثل نسبة بخار الماء والغازات الأخرى من الغلاف الجوي :	أ- العليا	ب- الوسطى
		ج- الخارجية	د- السفلى
٦	تمثل نسبة بخار الماء والغازات الأخرى من الغلاف الجوي :	أ- ١٪	ب- ٥٪
		ج- ٧٪	د- ١٠٪
٧	يشكل النسبة الكبرى من الغلاف الجوي :	أ- النيتروجين	ب- الأكسجين
		ج- ثاني أكسيد الكربون	د- الهيدروجين
٨	تحترق بقايا الشهب والنيازك الساقطة من الفضاء الخارجي الى الأرض في طبقة :	أ- الميزوسفير	ب- التروبوسفير
		ج- الستراتوسفير	د- الترموسفير
٩	تنشأ السحب والأمطار والعواصف في طبقة :	أ- الميزوسفير	ب- التروبوسفير
		ج- الستراتوسفير	د- الترموسفير
١٠	أهم عناصر المناخ حيث تتأثر بها جميع العناصر الأخرى وجميع مظاهر الحياة :	أ- الرياح	ب- الرطوبة
		ج- الحرارة	د- الامطار
١١	تبلغ درجة الغليان في المقياس المئوي -----درجة مئوية :	أ- ٥٠	ب- ٨٠
		ج- ٦٠	د- ١٠٠
١٢	تبلغ درجة تجمد المقياس الفهرنهايتي :	أ- ٢٢	ب- ٣٢
		ج- ٤٤	د- ٥٥
١٣	يقاس الضغط الجوي بجهاز :	أ- التيرمو متر	ب- السيسمو جراف
		ج- البارومتر	د- الأنيمومتر
١٤	منطقة الضغط المنخفض تقع على جانبي :	أ- خط الاستواء	ب- مدار الجدي
		ج- مدار السرطان	د- القطبين
١٥	تقع منطقتي الضغط الجوي المرتفع حول درجتني عرض -----شمالا وجنوبا	أ- ٢٠	ب- ٣٠
		ج- ٦٠	د- ٩٠

١٦	طول أنهار واختلاف تضاريس سطح الأرض وشفاء الجو جميعها عوامل تؤثر في :	أ-الحرارة	ب-الرياح	ج-الامطار	د-الضغط الجوي
١٧	الأشعة الصادرة من سطح الأرض بعد تكتسب الحرارة من الشمس مباشرة هي :	أ-الأشعاع الأرضي	أ- الأشعاع الشمسي	ج-الطاقة الشمسية	د-الأشعة غير مرئية
١٨	تقاس سرعة الرياح بجهاز :	أ-الأنيمومتر	ب-البارومتر	ج-الباروجراف	د-السيسموجراف
١٩	من أشكال الرياح الدائمة :	أ-الصفية	ب-العكسية	ج-الخماسين	د-المسترال
٢٠	تهب في اتجاه محدد في النصف الأول من العام ثم تهب في اتجاه مضاد في النصف الثاني	أ-الموسمية	ب-الدائمة	ج-المحلية	د-اليومية
٢١	من أهم نطاقات هبوب الرياح الموسمية :	أ-جنوب غرب أفريقيا	ب-جنوب شرق أفريقيا	ج-شمال غرب آسيا	د-جنوب شرق آسيا
٢٢	تهب في مناطق صغيرة من سطح الأرض مدة قصيرة جدا :	أ-الرياح الموسمية	ب-الرياح الدائمة	ج-الرياح المحلية	د-الرياح اليومية
٢٣	للرياح المحلية الباردة أمثلة منها :	أ-الخماسين	ب-السموم	ج-السيروكو	د-المسترال
٢٤	يقبل تأثير نسيم البر والبحر كلما ابتعدنا عن البحر حتى مسافةكم	أ-٢٠	ب-٣٠	ج-٤٠	د-٥٠
٢٥	تعرف الرياح المحلية الحارة التي تهب على شبه الجزيرة العربية بـ	أ-السموم	ب-الخماسين	ج-السيروكو	د-المسترال

السؤال الثاني الصواب والخطأ (من فقرة ١ الى ٤٣)

الإشارة	ضعي إشارة صح أمام العبارة الصحيحة وإشارة خطأ أمام العبارة الخاطئة
١-	الغلاف المائي غطاء سميك يحيط بالكرة الأرضية من جميع الجهات
٢-	يبلغ سمك الغلاف الجوي ٥٠٠٠ كم
٣	يتكون الغلاف الجوي من غازات ذات لون ورائحة مميزين
٤	تبلغ نسبة الأكسجين في الغلاف الجوي ٣٠٪
٥	تتميز غازات الغلاف الجوي بالتمدد والحركة

٦	أكبر الغازات نسبة في الغلاف الجوي ثاني أكسيد الكربون
٧	تتمركز الغازات المكونة للغلاف الجوي في الطبقة الوسطى
٨	الميزوسفير هي الطبقة السفلى من الغلاف الجوي
٩	يفضل الطيران في طبقة الستراتوسفير لقلّة السحب
١٠	تحترق بقايا الشهب والنيازك بطبقة الستراتوسفير
١١	الأشعة البنفسجية من أقسام الأشعة الشمسية
١٢	تسمى الطبقة الأخيرة في الغلاف الجوي الاكسوسفير
١٣	طبقة التروبوسفير هي الطبقة التي يندمج بعدها الغلاف الجوي بالفضاء الخارجي
١٤	التروبوسفير هي الطبقة التي يندمج بعدها الغلاف الجوي بالفضاء الخارجي
١٥	يوجد الأوزون في طبقة الستراتوسفير
١٦	تنشأ السحب والأمطار في طبقة التروبوسفير من الغلاف الجوي
١٧	الأشعة تحت الحمراء وفوق البنفسجية من أنواع أشعة الشمس الغير مرئية
١٨	تنتعثر في الهواء ٦٦٪ من أشعة الشمس
١٩	تسمى الأشعة التي تردها الأرض الى الغلاف الجوي بالأشعة الأرضية
٢٠	تعكس السحب ٢٣٪ من أشعة الشمس
٢١	الحرارة أهم عناصر المناخ وتتأثر بها جميع العناصر الأخرى
٢٢	تتركز أشعة الشمس العمودية في مساحات واسعة
٢٣	لطول النهار صيفا دور في ازدياد درجة الحرارة

٢٤	تلبد الجو بالغيوم يلطف درجة الحرارة
٢٥	الإشعاع الأرضي من أسباب تسخين الأرض
٢٦	يؤثر امتداد سلاسل الجبال واتجاهات الأودية في مدى قوة اشعة الشمس
٢٧	يتناسب الضغط الجوي تناسباً عكسياً مع درجة الحرارة
٢٨	كلما انخفضت درجة الحرارة تمدد الهواء وارتفع للأعلى
٢٩	كلما قل بخار الماء في الجو قلت كثافة الهواء وانخفض ضغطه
٣٠	تعرف منطقة ارتفاع ٧٥٠٠ م بالم نقطة القاتلة
٣١	اختلاف درجات الحرارة سبباً في تقسيم الأرض إلى مناطق حرارية
٣٢	تبلغ درجة غليان المقياس المئوي ٢١٢ درجة مئوية
٣٣	تقاس سرعة الرياح باستخدام دوارة الرياح
٣٤	تضاف الرياح إلى اسم الجهة التي تهب منها
٣٥	تهب رياح السموم من صحراء الجزيرة العربية باتجاه الشمال
٣٦	سميت الخماسين بذلك لاستمرارها خمسة أشهر
٣٨	تسقط أمطار الأعاصير عندما تصطدم الرياح بعائق جبلي
٣٩	تسقط أمطار الأعاصير عند التقاء كتلتين هوائيتين باردتين
٤٠	يحدث التساقط الحمضي بسبب عوادم السيارات
٤١	الرطوبة غير مرئية لكن يمكن الإحساس بها
٤٢	ترتبط قدرة الهواء على حمل بخار الماء بنسبة ضغطه
٤٣	تسود الأمطار التصاعديّة في المناطق المدارية

السؤال الثالث : (سؤال المزوجة) زواجي بين العمود أ ومايناسبة في العمود ب .

م	(ب)	الفقرة الصحيحة	(أ)
١	التروبوسفير		طبقة نحيلة يندمج الغلاف الجوي بعدها بالفضاء
٢	الميزوسفير		ترتفع درجة الحرارة بها كثيرا لتصل الى ١٠٠٠ درجة
٣	الثيرموسفير		تحترق بها بقايا الشهب والنيازك
٤	الستراتوسفير		منطقة نشوء السحب والأمطار والعواصف
٥	الإكسوسفير		تعرف بطبقة الأوزون وتقل فيها الرطوبة النسبية
٦	الدائمة		تهب في اتجاه محدد في النصف الأول من العام
٧	المحلية		تهب في منطقة صغيرة من سطح الأرض ولمدة قصيرة
			تهب وفق نظام ثابت لا يتغير
			سبب هبوبها هو اختلاف الضغط في منطقة ضيقة من الأرض مثل نسيم البحر والبر

السؤال الرابع : أكمل الفراغات التالية بما يناسبها

- ١- يسمى الغطاء السميك المحيط بالكرة الأرضية من جميع الجهات ب.....
- ٢- يبلغ سمك الغلاف الجوي
- ٣- يتكون الغلاف الجوي من مجموعة من الغازات التي ليس لهاأو.....
- ٤- تتميز غازات الغلاف الجوي بال.....وال.....
- ٥- تبلغ نسبة النيتروجين في الغلاف الجويونسبة الأكسجين
- ٦- تسمى الطبقة الأخيرة من الغلاف الجوي
- ٧- تنقسم الأشعة الشمسية الى أشعةوأشعة
- ٨- من أنواع الأشعة غير المرئيةو.....
- ٩- تعدأهم عناصر المناخ وتتأثر بها جميع
- ١٠- الضغط الجوي وزن عمود ال.....الواقع على أي منطقة من سطح الأرض.

تابع السؤال الرابع

- ١١- يقاس الضغط الجوي بأجهزة مثل جهاز.....و.....
- ١٢- يتناسب الضغط الجوي تناسباً عكسياً مع
- ١٣- يتناقص الضغط الجوي مع.....حيث يقع ٩٠٪ منه تحت ارتفاع.....كم
- ١٤- الرياح هي.....في حالة
- ١٥- تقاس الرياح بجهاز ال.....ويحدد اتجاه هبوبها باستخدام.....
- ١٦- يعتبر نسيم البر والبحر من الرياح
- ١٧- للرياح أنواع منها الرياح
- ١٨- تهب الرياح المحلية في مناطق.....من سطح الأرض في مدة
- ١٩- للتلوث آثار منها
- ٢٠- أغلب التلوث الهوائي ينجم عن
- ٢١- تسقط أمطار الجبهات بسبب التقاء كتلة هوائية.....بأخرى

السؤال الخامس : أجبني عن المطلوب مما يأتي : (أسئلة مقالية من ١ الى ١٢)

- ١- عرفي أ- الرياح . ب- الرطوبة المطلقة . ج- درجة التشبع د- التكثف ه- التلوث البيئي
- ٢- ما للتناج المترتبة على أ- اختلاف مناطق الضغط الجوي . ب- التلوث الهوائي
- ٣- فسري أ- اختلاف الرياح وتنوعها . ب- حدوث الرياح اليومية بانتظام . ج- تسمية رياح الخماسين بهذا الاسم .
- ب- اختلاف توزيع أشعة الشمس من مكان إلى آخر على سطح الأرض
- ٤- عددي مايلي : ١- مظاهر التكاثف . ٢- عوامل تسخين الهواء ٣- العوامل التي تؤدي إلى اختلاف توزيع أشعة الشمس على سطح الأرض .
- ٥- بيئي العلاقة بين درجة الحرارة والرطوبة .
- ٦- رتبي طبقات الغلاف الجوي ترتيباً صحيحاً حسب قربها من الأرض :
الأكوسفير - الميزوسفير - التروبوسفير - الستراتوسفير - الميزوسفير

٧- صنفى الرياح التالية وفق المطلوب :
(المسترال- الخماسين – الفوهن- السموم- الشينوك)

الرياح المحلية الباردة	الرياح المحلية الحارة

٨- صممي خارطة معرفية لأنواع الرياح

٩- وزعي اشعة الشمس في الجدول التالي:

٢٣% ٢% ٦٦% ٩%

النسبة	التوزيع
	تعكسها السحب
	يتبعثر في الهواء
	يعكسها سطح الأرض
	يمتصها سطح الأرض

١٠- حددي على الرسم المناطق الحرارية على سطح الأرض :

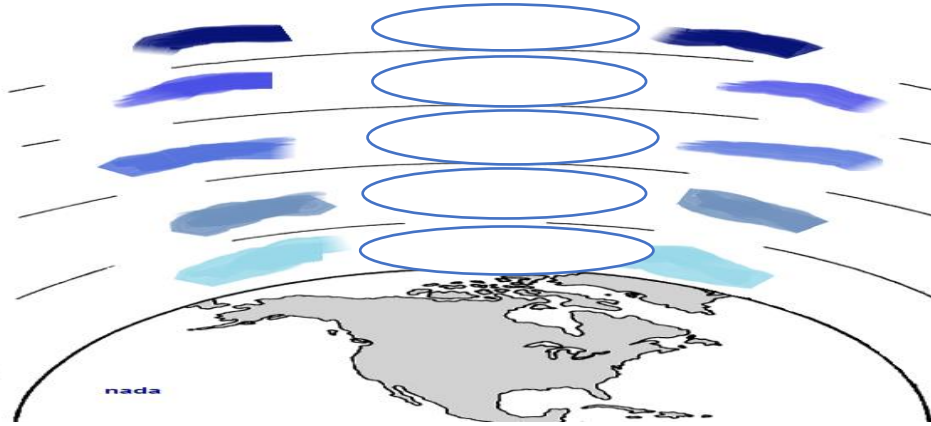


تابع السؤال الرابع (مقالي)

١١- صلي بين الغاز بنسبته في الغلاف الجوي:

الغاز	نسبته
١/الأكسجين	٧٨٪/أ
٢/النيتروجين	١٪/ب
٣/ثاني أكسيد الكربون	٢١٪/ج
	٣٠٪/د

١٢- حددي على الرسم طبقات الغلاف الجوي



انتهت أسئلة الوحدة السادسة

الوحدة السابعة : الغلاف الحيوي

السؤال الأول : (اختيار من متعدد من ١ الى ١٩) اختاري الإجابة الصحيحة مما يأتي :

١-	أ-الربيع	ب-الصيف	ج-الخريف	د-الشتاء
٢	أكثر الفصول مناسبة لنمو النباتات			
٣	يستمر نمو النباتات فيه طول العام			
٤	أ- الأقاليم المعتدلة	ب-الأقاليم القطبية	ج-الأقاليم المدارية	د-الأقاليم الاستوائية
٥	أغنى النطاقات النباتية بالحيوانات :			
٦	أ-المدارية	ب-الساافانا	ج-الاستبس	د-التندرا
٧	تصل أنواع الأشجار في غابات الامازون الى نوع			
٨	أ-١٥٠٠	ب-٢٠٠٠	ج-٢٥٠٠	د-٣٠٠٠
٩	الإقليم التي تمتاز أشجاره بضخامتها وكثافتها :			
١٠	أ-المداري	ب-القطبي	ج-الاستوائي	د-الموسمي
١١	يتسع نطاق الإقليم المداري في			
١٢	أ-شمال القارات	ب-جنوب القارات	ج-شرق القارات	د-غرب القارات
١٣	يعرف الإقليم المداري باسم اللانتوس والكامبوس في :			
١٤	أ-أمريكا الشمالية	ب-أفريقيا	ج-أمريكا الجنوبية	د-آسيا
١٥	تغطي السافانا ثلث مساحة قارة :			
١٦	أ-أستراليا	ب-آسيا	ج-أفريقيا	د-أمريكا الشمالية
١٧	إقليم تمتاز حيواناته بالضخامة والسرعة وخفة الحركة			
١٨	أ-الاستوائي	ب-المداري	ج-الموسمي	د-الصحراوي
١٩	يظهر الإقليم الموسمي في المناطق التي تسقط أمطارها في موسم واحد وهو :			
٢٠	أ-الخريف	ب-الشتاء	ج-الربيع	د-الصيف
٢١	تبلغ المساحة التي تغطيها المناطق الجافة من مساحة الكرة الأرضية :			
٢٢	أ-الثلث	ب-الربيع	ج-الثلث	د-النصف
٢٣	يدخل معظم اجزائها نطاق الصحاري الحارة :			
٢٤	أ-مصر	ب-عمان	ج-اليمن	د-المملكة العربية السعودية
٢٥	تعرف حيواناته بذات الدم البارد :			
٢٦	أ-الموسمي	ب-الصحراوي	ج-المداري	د-الاستوائي
٢٧	تمتد الصحاري الحارة :			
٢٨	أ-غربي القارات	ب-شرق القارات	ج-شمال القارات	د-جنوب القارات
٢٩	سمي طائر الحمره باسمه العلمي نسبة للملك			
٣٠	أ-عبدالعزیز	ب-سعود	ج-فيصل	د-خالد
٣١	شاركت المملكة العربية السعودية في الحملة العالمية لإنقاذ المها العربي في عهد الملك :			
٣٢	أ-عبدالله	ب-فهد	ج-سعود	د-عبدالله
٣٣	أسس مركز الأبحاث والحياة الفطرية مثل النواة الأولى لبرنامج عمل الهيئة السعودية لحماية الحياة الفطرية الملك			
٣٤	أ-عبدالعزیز	ب-سلمان	ج-خالد	د-فيصل
٣٥	منع صيد المها والضباء منعاً باتاً :			
٣٦	أ-الملك خالد	ب-الملك عبدالله	ج-الملك سلمان	د-الملك فهد
٣٧	يعد الربع الخالي من أفضل المناطق في العالم لمعيشة :			
٣٨	أ-المها العربي	ب-الماعز الجبلي	ج-الجاموس	د-اللاما

السؤال الثاني الصواب والخطأ (من فقرة ١ الى ٤٧)

الإشارة	ضعي إشارة صح أمام العبارة الصحيحة وإشارة خطأ أمام العبارة الخاطئة
١-	للمناخ تأثير كبير في حياة النباتات
٢-	أكثر الفصول مناسبة لنمو النباتات فصل الصيف
٣	يؤثر كمية الأمطار على كمية النباتات وكثافتها
٤	لا تتأثر النباتات بالارتفاع عن مستوى سطح البحر
٥	يستمر نمو النباتات في المناطق الاستوائية على مدار العام
٦	الجاموس البري والزرراف من أهم حيوانات نطاق السافانا
٧	يكثر الماعز الجبلي في سلسلة جبال الحجاز
٨	جميع الأسماك تستطيع العيش بالقرب من سطح الماء
٩	لا تتعدى النباتات خط الثلج الدائم في جبل كالمجارو
١٠	أكثر العناصر المناخية تأثيراً في التوزيع الجغرافي للنباتات الرطوبة والضغط الجوي
١١	أهتم الملك عبدالعزيز بحفظ عينات لحيوانات مهددة بالانقراض
١٢	شاركت المملكة في الحملة العالمية لانقاذ المها العربي
١٣	أهدى الملك عبدالله اربعا من مها العربي الى القطيع العالمي مساهمة في إنقاذه
١٤	اصدر نظام الصيد وحددت مواسمه في عهد الملك سلمان بن عبدالعزيز
١٥	أصدر الملك سلمان امرا ملكيا بتشكيل مجلسا للمحميات الملكية بالديوان الملكي
١٦	ينقسم العالم الى ثلاث أقاليم طبيعية
١٧	يمتاز الإقليم الاستوائي بانخفاض درجة الحرارة طوال العام
١٨	تقل الأمطار في الإقليم الاستوائي عن ١٥٠٠م
١٩	الأشجار في الإقليم الاستوائي متباعدة وصغيرة الحجم
٢٠	تمتاز الحيوانات في الغابات الاستوائية بضخامة حجمها
٢١	تتسع الإقليم المداري في غرب القارات أكثر من شرقها
٢٢	يعرف الإقليم المداري باسم الكامبوس واللانوس في أمريكا الشمالية
٢٣	تعرف الأقاليم المدارية في أفريقيا باسم السافانا
٢٤	يمتد الإقليم المداري جنوب السودان وجنوب قارة أفريقيا
٢٥	يمتاز الإقليم المداري بارتفاع حرارته على مدار السنة
٢٦	تجف السافانا وتكون عرضه للحرائق التي يسببها البرق
٢٧	تشغل السافانا المساحات الواقعة بين الغابات الاستوائية والصحراء
٢٨	تمتاز الحيوانات في الإقليم المداري بصغر حجمها وقلة حركتها
٢٩	يعد الإقليم الموسمي جزء من الإقليم المداري

الإشارة	تابع السؤال الثاني الصواب والخطأ
٣٠	يظهر الإقليم الموسمي في المناطق التي تسقط أمطارها في موسم واحد
٣١	تسقط امطار الإقليم الموسمي في فصل الشتاء
٣٢	يظهر الإقليم الموسمي في سواحل غانا بأفريقيا وسواحل غرب الهند
٣٣	الحياة النباتية في الإقليم الموسمي بسبب اختلاف توزيع درجات الحرارة
٣٤	تنمو أشجار الساج والخيزران في الإقليم المداري
٣٥	يمتاز الإقليم الموسمي بارتفاع درجات الحرارة طوال السنة
٣٦	تغطي المناطق الحارة نصف الكرة الأرضية
٣٧	تتسم المناطق الصحراوية بندرة الماء والجفاف
٣٨	ترتفع درجة الحرارة صيفا في الصحاري الحارة الى ٥٠ درجة
٣٩	تظهر الصحاري المعتدلة في وسط أفريقيا و اسيا
٤٠	يزداد متوسط درجات الحرارة في الصحاري المعتدلة عن ٢٠ درجة
٤١	صحراء جوبي في الصين من أمثلة الصحاري المعتدلة
٤٢	تظهر الصحاري الباردة في القارة القطبية الجنوبية
٤٣	معظم التساقط في الصحاري الباردة يكون على هيئة ثلوج
٤٤	تمثل الأعشاب قصيرة العمر ٥٠٪ من نباتات الصحاري
٤٥	تصاد حيوانات الصحاري الباردة صيدا جائرا لقيمتها الاقتصادية
٤٦	تمتاز جذور النباتات الصحراوية بامتدادها وتشعبها
٤٧	تظل الحيوانات الصحراوية في حركة دائمة

السؤال الثالث : (سؤال المزوجة) (زاجى بين المحمية والمنطقة التابعة لها :

م	المحمية (أ)	الفقرة الصحيحة	المنطقة التابعة لها (ب)
١	محمية الامام عبدالعزيز بن محمد		نيوم ومشروع البحر الأحمر والعلما
٢	محمية الامام سعود بن عبدالعزيز		النتهات والخفس
٣	محمية الامام تركي بن عبدالله		الخنقة وطبيق وحره الحره
٤	محمية الملك عبدالعزيز		محازة الصيد
٥	محمية الملك سلمان		روضة خريم
٦	محمية الأمير محمد بن سلمان		التيسية
٧			وادي فاطمة وبحرة

السؤال الثالث : أكمل الفراغات بما يناسبها :

- ١- أهم عناصر المناخ المؤثرة في النباتات
- ٢- للتربة أنواع منها و.....
- ٣- النظام البيئي تركيب متوازن من المواد
- ٤- يتكون الغلاف الحيوي من عناصر وعنصر.....
- ٥- المكونات الحية للغلاف الحيوي
- ٦- تعيش في المناطق الباردة حيوانات و.....
- ٧- يقسم العالم على أساس و..... الى خمسة مناطق طبيعية .
- ٨- تزيد الأمطار في الإقليم الاستوائي في فصلي و.....
- ٩- تعد الغابات من أكثر الغابات في العالم .
- ١٠- تمتاز الأشجار في الغابات الاستوائية بـ.....
- ١١- تعد بعض الأشجار الاستوائية ثروة خشبية مثل و.....
- ١٢- تمتاز حيوانات الأقاليم الاستوائية بـ..... و.....
- ١٣- تنقسم الأقاليم المدارية الى الإقليم..... و.....
- ١٤- يقع الإقليم المداري بين درجتي عرض شمالاً و..... جنوباً
- ١٥- يعرف الإقليم المداري في أمريكا الشمالية باسم..... و.....
- ١٦- تعرف الأقاليم المدارية باسم السافانا في قارة
- ١٧- تمتاز حيوانات الإقليم المداري بـ..... و.....
- ١٨- يظهر النظام الموسمي في مناطق منها و.....
- ١٩- تسقط معظم أمطار الإقليم الموسمي في فصل ويكون الشتاء
- ٢٠- تتكيف النباتات الصحراوية مع الجفاف بطرق شتى منها و.....
- ٢١- تنتشر في المناطق الصحراوية بعض الزواحف مثل..... و.....
- ٢٢- تعيش حيوانات في الصحاري الباردة مثل و.....
- ٢٣- الصحاري هي الأقاليم التي تتصف بـ..... و.....
- ٢٤- للصحاري أنواع منها و.....
- ٢٥- تمتاز الصحاري الحارة بكبر المدى الحراري الـ..... و.....
- ٢٦- تظهر الصحاري المعتدلة وسط و.....
- ٢٧- معظم الصحاري الباردة يقع في الدائرة

السؤال الرابع : أجبني عن المطلوب مما يأتي (أسئلة المقال من ١ الى ١٠)

- ١- هل توافقين على ما يأتي مع ذكر السبب :
 - أ- فقر الإقليم المداري بالحياة الحيوانية دوناً عن باقي الأقاليم الطبيعية .
 - ب- أكثر مناطق العالم جفافاً هي الصحاري الحارة .
 - ج- عدم ارتفاع درجة الحرارة صيفاً في الصحاري الجليدية رغم طول النهار .
- ٢- فسري : أ- تعد الصحاري الحارة أكثر مناطق العالم جفافاً .
 - ب- صغر حجم الحيوانات الاستوائية .
 - ج- سرعة حيوانات الإقليم المداري وخفة حركتها .
 - د- الحرائق التي تصيب السافانا في موسم الجفاف .
 - هـ- اختلاف الحياة النباتية في الإقليم المداري من منطقة إلى أخرى .
 - و- الصحاري الحارة أكثر مناطق العالم جفافاً .
- ٣- مثلي : أ- لحيوانات الصحاري الحارة والباردة . ب- أشجار الإقليم الاستوائي . ج- حيوانات الإقليم الاستوائي ز
- ٤- أذكرني طرق تكيف النباتات الصحراوية مع المناخ الجاف .
- ٥- ماهي أقسام الصحاري في العالم .
- ٦- صنفني : الحيوانات بين الاقواس وفقاً للعامل الجغرافي بالجدول
(الدب القطبي – الزراف – الماعز الجبلي – الذئب – الفيلة)

حيوانات تعيش بمناطق السافانا	حيوانات تعيش بمناطق باردة	حيوانات تعيش بمناطق جبلية

٧- قارني بين المميزات المناخية والنباتية للإقليم المداري والموسمي وفقاً للجدول المرفق :

المميزات	الإقليم المداري	الإقليم الموسمي
النباتية		
المناخية		

٨- عددي خصائص المناطق الصحراوية الحارة .

٩- قارني بين الإقليم الاستوائي والموسمي من حيث : الموقع - المناخ - النباتات - الحيوانات .

أوجه المقارنة	الإقليم الاستوائي	الإقليم الموسمي
الموقع		
المناخ		
النباتات		
الحيوانات		

١٠- أذكر طرق تكيف النباتات الصحراوية مع المناخ الجاف

انتهت أسئلة الوحدة السابعة

الوحدة الثامنة : السكان

السؤال الأول : إختيار من متعدد (١١ من ١١)

اختاري الإجابة الصحيحة فيما يلي			
١-	أكثر الفصول مناسبة لنمو النباتات		
	أ-الربيع	ب-الصيف	ج-الخريف
	د-الشتاء		
٢	يستمر نمو النباتات فيه طول العام		
	أ-الأقاليم المعتدلة	ب-الأقاليم القطبية	ج-الأقاليم المدارية
	د-الأقاليم الاستوائية		
٣	هناك مناطق استوائية المكتظة بالسكان مثل :		
	أ-الأمازون	ب-أندونيسيا	ج-زائير
	د-الكونغو		
٤	تمثل مناطق ازدهام سكاني :		
	أ-سهول سيبيريا	ب-الصحراء الكبرى	ج-المناطق القطبية
	د-غرب أوروبا		
٥	من الدول ذات الكثافة سكانية شديدة الارتفاع :		
	أ-مصر	ب-استراليا	ج-البرتغال
	د-بنجلاديش		
٦	تزيد الكثافة السكانية في الأقاليم الشديدة الارتفاع عن ----- نسمة :		
	أ-١٠٠ نسمة	ب-٤٠ نسمة	ج-٥٠ نسمة
	د-٨٠ نسمة		
٧	تعد المملكة العربية السعودية من دول الكثافة :		
	أ-المرتفعة	ب-المتوسطة	ج-المنخفضة
	د-الشديدة الانخفاض		
٨	ينسب عدد المواليد الى كل ----- من السكان :		
	أ-٣٠٠	ب-٥٠٠	ج-٨٠٠
	د-١٠٠٠		
٩	تعد من الدول ذات النمو السكاني السريع والزيادة السكانية المرتفعة :		
	أ-بريطانيا	ب-تشاد	ج-المملكة العربية السعودية
	د-اليابان		
١٠	احدى هذه الدول ليست من الدول ذات النمو السكاني السريع والزيادة السكانية المرتفعة :		
	أ-النيجر	ب-المملكة العربية السعودية	ج-مصر
	د-الأردن		
١١	يوضح الهرم السكاني النسبة المئوية في كل فئة عمرية مدتها ----- سنوات :		
	أ-عشر	ب-خمس	ج-اربع
	د-ست		

السؤال الثاني : سؤال الصواب والخطأ من الفقرة (١ الى ٥٩)

الإشارة	ضعي إشارة (صح) أمام العبارة الصحيحة (وخطأ) أمام العبارة الخاطئة
	١- يقصد بالهرم السكاني رسم بياني يوضح توزيع السكان حسب النوع
	٢- تشير جميع الدلائل ان النمو السكاني كان سريعاً جداً منذ عام ١٦٥٠م
	٣- التركيب النوعي للسكان توزيعهم حسب المراحل العمرية المختلفة
	٤- يوزع السكان حسب العمر الى فئتين عمريتين
	٥- الدول ذات نسبة المواليد والوفيات العالية تكون ذات زيادة سكانية عالية ونمو سكاني سريع
	٦- ترتفع نسبة الزيادة السكانية في الدول ذات نسبة المواليد المرتفعة والوفيات المنخفضة
	٧- كل فئة عمرية في الهرم السكاني مدتها عشر سنوات
	٨- أصغر فئة عمرية في الهرم السكاني من ١ الى خمس سنوات
	٩- يتم توزيع السكان في الهرم السكاني حسب النوع والعمر
	١٠- تتسع قاعدة الهرم السكاني اذا ازداد عدد كبار السن والشيوخ
	١١- تعتبر الفئة العمرية من صفر الى أربعة عشر الفئة المعيلة والمنتجة
	١٢- يطلق على فئة السكان من ٦٥ وما فوق متوسطي السن
	١٣- يقصد بالنمو السكاني نسبة السكان الى المساحة
	١٤- يزيد عدد السكان في الأقاليم السكانية المنخفضة الكثافة عن ١٠٠ نسمة
	١٥- تعد دول مصر من أقاليم الكثافة المتوسطة
	١٦- تعد دولة مصر من الأقاليم الكثافة المتوسطة

تابع سؤال الخطأ والصواب :	
١٨-	تعد استراليا من دول الكثافة السكانية المرتفعة
١٩-	يطلق مصطلح النمو السكاني على الزيادة السكانية التي تطرأ على عدد السكان
٢٠-	يزيد السكان طبيعياً بمقدار الفرق بين المواليد والمهاجرين
٢١-	ينسب عدد المواليد الى كل الف من السكان
٢٢-	عند استخدام النسبة المئوية للسكان تأتي النتيجة أعداد صحيحة
٢٣-	تسهل نسبة المواليد الى كل الف من السكان المقارنة بين نسبتهم في الدول المختلفة
٢٤-	تقل نسبة المواليد في الدول الإسلامية عن غيرها من الدول
٢٥-	يصاحب ارتفاع المستوى التعليمي تأخر سن الزواج
٢٦-	أدت الثورة الصناعية الى زيادة الطلب على الايدي العاملة
٢٧-	تعمل بعض الدول في العصر الحالي على زيادة النسل لأغراض عسكرية وسياسية
٢٨-	أدى تطور وسائل النقل والمواصلات في العصر الحاضر الى التخفيف من أثر المجاعات
٢٩-	بلغ عدد المصابين في حوادث السيارات خلال الأربعين سنة الماضية مليون شخص في المملكة
٣٠-	تؤدي الكوارث الطبيعية كالزلازل والبراكين الى زيادة معدلات الوفيات
٣١-	تعد الزيادة السكانية بسبب الهجرة زيادة بطيئة
٣٢-	أدى الهجوم الاسرائيلي على لبنان الى هجرة مليون نسمة من لبنان وسوريا
٣٣-	معظم اثار الحروب في توزيع السكان ذات طبع دائم
٣٤-	تتأثر نسبة المواليد بعدة عوامل منها تأخر سن الزواج
٣٥-	الأقطار الصناعية أكثر انجاباً من الأقطار الصناعية
٣٦-	تسهم الهجرة في تغيير عدد السكان بالعالم كله

تابع سؤال الخطأ والصواب :	
٣٧-	تنتشر حرفة الرعي في مساحات ضيقة من العالم
٣٨-	تسمح حرفة الزراعة بتكدس السكان في مساحات صغيرة
٣٩-	يتركز السكان في داخل القارات ويقفون على السواحل
٤٠-	شهدت الهند وباكستان بعد الاستقلال هجرة ضخمة
٤١-	الاثار المباشرة للمعادن أكثر أهمية من الأثر المباشر
٤٢-	المناخ القطبي والصحراوي من المناخات الطاردة للسكان
٤٣-	يتمثل الأثر الغير مباشر للتعددين في جذب الصناعة التي تجذب السكان
٤٤-	جميع الأقاليم الاستوائية جاذبة للسكان
٤٥-	خصوبة التربة ووفرة المياه أدى الى ازدهام السكان في سهول وادي النيل والفرات
٤٦-	البيانات غير الثابتة تدرس توزيع السكان وخصائصهم
٤٧-	جمع البيانات السكانية وتحليلها يشكل جزءاً رئيسياً في رسم خطط التنمية
٤٨-	يحتاج المخططون الى البيانات السكانية لتقويم الوضع الاجتماعي والاقتصادي
٤٩-	تدرس مصادر البيانات الثابتة خصائص السكان كالنوع والعمر والنشاط الاقتصادي
٥٠-	يشترط التعداد أن يعد أفراد الاسرة كاملة
٥١-	يتجنب السكان التعداد بسبب الجهل وقلة الوعي
٥٢-	هناك علاقة بين توزيع السكان والعوامل الطبيعية كالمناخ والتضاريس
٥٣-	تكتظ اندونيسيا بالسكان رغم مناخها الاستوائي
٥٤-	المناخ الصيني من المناطق المناخية الطاردة للسكان
٥٥-	يفضل السكان السكن في المناطق الجبلية مثل الهمالايا والتبت

٥٦-	تزدحم جزيرة جاوة بالسكان رغم ارتفاع معظم اجزائها عن سطح البحر
٥٧-	يكثُر السكان في السهول الفيضية مثل سيبيريا
٥٨-	للمعادن أثرها في انتشار العمران في كثير من المناطق الصحراوية
٥٩-	تشير جميع الدلائل ان النمو السكاني كان سريعاً جداً منذ عام ١٦٥٠م

السؤال الثالث : أكمل الفراغات بما يناسبها :

- ١- البيانات غير الثابتة تعني بـ.....
- ٢- تعني البيانات غير الثابتة بحركة السكان وتغيراتهم مثل
.....
- ٣- تعني البيانات الثابتة بتوزيع السكان وخصائصهم مثلو.....
- ٤- يجري التعداد السكاني مرة كلسنوات .
- ٥- يحوي التعداد السكاني بيانات مختلفة عن السكان مثل
.....
- ٦- تعد المعلومات الخاصة بالسكان غاية في الأهمية لصياغة برامج
.....
- ٧- هناك مناخات جاذبة للسكان مثل المناخ
.....
- ٨- هناك مناخات طاردة للسكان مثلو.....
- ٩- قد يكون ارتفاع السطح عامل جذب للسكان أحياناً مثل جزيرة
- ١٠- يزدحم السكان في السهول الفيضية بسببو.....
- ١١- تتأثر نسبة المواليد بعدة عوامل منهاو.....
- ١٢- تنقسم الهجرة الى قسمين هجرة وهجرة
- ١٣- تتطلب حرفة ومساحات واسعة .
- ١٤- يؤدي انشاء الطرق الى نشأة مدن كبيرة مثلو.....
- ١٥- نستطيع معرفة كيفية حساب الزيادة السكانية من خلالو.....
- ١٦- يزداد عدد السكان سنوياً بنحومليون نسمة
- ١٧- تتوقع الأمم المتحدة أن يصل عدد السكان الى ٨,٦مليارات بحلول عام

تابع السؤال الثالث: املئي الفراغات

- ١٨- من أمثلة مجموعة الدول ذات نسبة المواليد والوفيات المنخفضة دول أفريقيا مثل
- ١٩- هناك دول ذات نمو سكاني سريع مثل
- ٢٠- يقصد بالكثافة السكانية نسبة الى
- ٢١- تزيد الكثافة في الأقاليم الشديدة الارتفاع عن نسمة مثل
- ٢٢- تقل كثافة السكان في استراليا عن نسمة وتصنف ضمن أقاليم الكثافة
- ٢٣- يرجع تزايد السكان الى عاملين الزيادة والزيادة
- ٢٤- تعني الزيادة الطبيعية أن السكان يزيدون بمقدار الفرق بين
- ٢٥- يحث الدين الإسلامي على الزواج بقصد
- ٢٦- يقصد بالعامل الاجتماعي والساعدة في محيط مجتمع
- ٢٧- شجعت إيطاليا وألمانيا زيادة النسل بين الحربين لتحقيق أغراضاً
- ٢٨- هناك عوامل مؤثرة في الوفيات منها و.....
- ٢٩- تحدث المجاعات نتيجة
- ٣٠- تحصل أكثر من ١٤٠ الف وفاة سنويا نتيجة
- ٣١- تؤثر الكوارث الطبيعية في عدد الوفيات مثل
- ٣٢- انخفضت نسبة الوفيات في العصر الحديث لاسباب منها
- ٣٣- تعد السنة أشد مراحل عمر الانسان حساسية وتعرف بالمرحلة
- ٣٤- تعد بريطانيا وإيطاليا واليابان من أمثلة الدول ذات النسبة المنخفضة في
- ٣٥- الهرم السكاني رسم بياني يوضح توزيع السكان حسب
- ٣٦- كل فئة عمرية في هرم السكان مدتها سنوات .
- ٣٧- يقسم سكان الدولة حسب التركيب والتركيب
- ٣٨- يقسم السكان حسب التركيب العمري الى فئات عمرية .
- ٣٩- الفئة العمرية المنتجة هي فئة السكان من الى
- ٤٠- نسبة الرجال الى النساء في سائر بلاد العالم الى
- ٤١- يقصد بالتركيب النوعي للسكان تقسيمهم الى

السؤال الرابع : أجبني عن المطلوب فيما يأتي (مقالي من ١ الى ١٣)

- ١- عرفني : أ/الكثافة السكانية . ب/النمو السكاني .
- ٢- ما المقصود بالنمو السكاني
- ٣- يرجع ازدياد السكان الى عاملين اذكرهما
- ٤- عللي : أ- نسبة المواليد في الدول الإسلامية ترتفع عن غيرها من الدول .
ب-التعداد السكاني أمر صعب أو متعذر في كثير من الدول
- ٥- فسري :

- ١-انخفاض معدل الوفيات في العالم
- ٢-صعوبة التعداد السكاني من بلد الى اخر
- ٣-ازدحام السكان في سهل وادي النيل
- ٤-زيادة عدد الوفيات في أنغولا عنها في الخليج العربي
- ٥-قلة السكان الممارسين لحرفة الصيد مقارنة بالصناعة
- ٦-تركز السكان على سواحل القارات أكثر من الداخل
- ٧-لا يفضل السكان سكنى الجبال
- ٨-يفضل السكان في المناطق السهلية مثل وادي النيل
- ٩-أهمية جمع البيانات السكانية

- ٦- مالنتيجة المترتبة على مايلي : جمع المعلومات الديموغرافية والاجتماعية والاقتصادية للسكان
- ٧- مثلي لأهم المدن التي شيدت بعد انشاء طرق جديد على طول الطرق المهمة
- ٨- فرقي بين الهجرة الداخلية والخارجية

الهجرة الخارجية	الهجرة الداخلية

- ٩- عددي : ١-العوامل الطبيعية المؤثرة في توزيع السكان . ٢-أهداف التعداد .
- ١٠ - ميزي بين التركيب النوعي والعمري للسكان .
- ١١-وضحي العلاقة بين العامل الديني وزيادة معدلات المواليد .

تابع السؤال الرابع : (مقالى)

١٢-صنفي ما يلي :

أ- المناطق التالية من حيث طرد السكان أو جذبهم
(المناطق شديدة البرودة القطبية – المداري – الصحراوي – البحر المتوسط –
غرب أوروبا)

ب- الاثار المعدنية المباشرة والغير مباشرة في توزيع السكان
(انتشار العمران – جذب الايدي العاملة – الصناعة – مصادر الطاقة)

آثار غير مباشرة	آثار مباشرة

ج- صنفى المناخات التالية الى طاردة وغازبة للسكان
القطبي /الصيني / البحر المتوسط / الصحراوي

مناخ جاذب للسكان	مناخ طارد للسكان

د-صنفي الدول التالية حسب المطلوب بالجدول : بنجلاديش – مصر- المملكة العربية السعودية
– البرتغالية -استراليا .

كثافة شديدة الارتفاع	كثافة مرتفعة	كثافة متوسطة	كثافة منخفضة	كثافة شديدة الانخفاض

١٣-صنفي البيانات السكانية حسب مايناسبها من المصادر :

(التعدادات – سجلات المواليد والوفيات – سجلات الزواج والطلاق – المسح
بالعينة)

مصادر البيانات الثابتة	مصادر البيانات غير ثابتة

انتهت أسئلة الوحدة الثامنة

الوحدة التاسعة : العمران

السؤال الأول اختيار من متعدد من ١ الى ٩

أختاري الإجابة الصحيحة فيما يأتي :			
١- إعمار الإنسان بقعة من الأرض يسمى :			
أ-الدولة	ب-الاستيطان	ج-الاحتلال	د- الاستعمار
٢- جميع مايلي من خصائص المجتمع الحضري ما عدا			
أ-ضعف العلاقات الاجتماعية	ب-انخفاض مستوى المعيشة	ج-ضعف التجانس بين أفراد	د- كبر حجم المجتمع البشري
٣- تبلغ نسبة سكان الحضر في المملكة العربية السعودية			
أ- ٨٠٪	ب- ٨٤٪	ج- ٨٦٪	د- ٩٠٪
٤- تعد من اسرع المدن نموا سكانيا في العالم هي مدينة			
أ-مكسيكو سيتي	ب-باريس	ج- ديترويت	د- أكسفورد
٥- الرياض القاهرة أبو ظبي جميعها أمثلة للمدن الـ			
أ-الصناعية	ب-الإدارة والحكم	ج-العسكرية	د-الثقافية
٦- هناك لمدن صناعية في المملكة العربية السعودية مثل مدينة.....			
أ-تبوك	ب-الباحة	ج-الجبيل	د-الرياض
٧- من خصائص العمران الريفي			
أ-كبير حجمه	ب-ارتفاع مستوى المعيشة	ج-انتظام ساعات العمل	د-قوة العلاقات الاجتماعية
٨- بقعة ريفية توجد فيها مزارع متباعدة ويبنى كل مزارع مسكنه في جانب من هذه البقعة			
أ-العمران الثابت	ب-العمران المبعثر	ج-العمران المتجمع	د-العمران المؤقت
٩- المدن التي تكون مراكز إقليمية او عواصم الدول تكون وظيفتها			
أ-دينية	ب-إدارة والحكم	ج-ثقافية	د-تجارية

السؤال الثاني : سؤال الصواب والخطأ من فقرة (١ الى ٨)

الإشارة	ضعي إشارة صح امام العبارة الصحيحة وخطأ امام العبارة الخاطئة :
١-	للعلاقات الاجتماعية والاقتصادية والتقدم العلمي أثرا في تحديد نوع الاستيطان البشري
٢-	يستطيع الإنسان العيش منفردا دون الاعتماد على أي مجموعة بشرية أخرى
٣-	شيوخ العادات والتقاليد المؤثرة اجتماعيا من خصائص العمران الحضري
٤-	تباعد المزارع وبناء المساكن بالقرب من المزرعة اهم ما يميز العمران المبعثر
٥-	يكتسب سكان المدن خبرة بمعرفة أحوال المناخ ومواسم الزراعة
٦-	يرتبط العمران المؤقت بحرفة الصيد والزراعة البدائية
٧-	صنفت مدينة أكسفورد في بريطانيا ضمن المدن الثقافية
٨-	اكثر تواجد للمدن الحربية في مناطق الحدود بين الدول

السؤال الثالث : اكملی العبارات التالية بكلمات مناسبة من فقرة (١ الى ٣)

- ١- مجتمع بشري يقل عدد سكانه عن خمسة الاف نسمة ويعمل أغلبهم في الزراعة هو المجتمع
- ٢- ينقسم العمران الريفي الى قسمين بناء على مدى استمرارهماو.....
- ٣- هناك مدن دينية في الوطن العربي مثلو.....

السؤال الرابع : (أسئلة مقالية من ١ الى ١٠)

١- أوجد الفرق بين المصطلحات الجغرافية التالية من حيث التعريف على ضوء دراستك لمراكز العمران وأنواعها ؟

المصطلحات	
العمران الحضري	العمران الريفي
العمران المتكامل (المتجمع)	العمران المبعثر (المنعزل)
العمران المؤقت	العمران الدائم

٢- صنف المدن التالية بناء على الوظيفة الرئيسية لها في الدولة

م	المدينة	الحل	الوظيفة الرئيسية
١-	القاهرة		المدن الدينية
٢-	القدس		المدن التجارية
٣-	اكسفورد		مدن الإدارة والحكم
٤-	ديترويت		المدن الثقافية
٥-	دبي		المدن الصناعية

٣- عددي لما يأتي :

- خصائص العمران الحضري
- عوامل نشأة العمران الدائم
- خصائص العمران الريفي

٤- فسري لما يأتي

- ارتباط جماعات العمران المؤقت بالمكان لفترة محددة
- زيادة النمو السكاني في مدن الدول النامية
- يتسم الاتجاه الحديث في التخطيط الصناعي في إنشاء ضواحي للصناعة خارج المدن
- تظهر المدن الحربية في مناطق الحدود

٥- اثبتي صحة العبارة التالية ؟ مدعمة إجابتك بذكر الأسباب المؤدية لذلك؟
(تعاني المدن نتيجة النمو السكاني السريع عددا من المشكلات)

.....

.....

.....

٦- اكتب رقم العبارات التالية في مكانها المناسب باستخدام الأرقام

الحل	المصطلحات	الرقم	العبارات
	العمران الريفي	١-	عدم التجانس بين الأفراد
		٢-	قوة العلاقات بين السكان
		٣-	ارتفاع مستوى المعيشة
	العمران الحضري	٤-	انخفاض المستوى المعيشي
		٥-	عدم التوازن الديموغرافي
		٦-	شيوخ العادات والتقاليد مؤثراً اجتماعياً

٧- علل/ي تشير الإحصاءات إلى أن نسبة الريفيين إلى مجموع السكان في تناقص مستمر

٨- ميز/ي بين العمران المؤقت والعمران الدائم

العمران المؤقت	العمران الدائم

٩- صنف/ي المدن التالية بحسب وظيفتها وفقاً للجدول المرفق

(أكسفورد , نيويورك , لندن و دبي , ديترويت , ليون ينيغ , الرياض , مكة المكرمة)

دينية	ثقافية	تجارية	صناعية	الإدارة والحكم

١٠- علل/ي تشير الإحصاءات إلى أن نسبة الريفيين إلى مجموع السكان في تناقص مستمر

أنتهت أسئلة الوحدة التاسعة

الوحدة العاشرة : الدولة ومقوماتها

السؤال الأول : اختاري الإجابة الصحيحة مما يأتي (من فقرة ١ الى ١١)			
١-	بلغ عدد دول العالم التابعة الى منظمة هيئة الأمم المتحدة	دولة	
	أ- ١٨٠	ب- ١٩٠	ج- ١٩٣
٢-	خطوط وهمية توضع على الخريطة لتحديد أراضي الدولة وفصلها عن دول الجوار	د- السواحل	
	أ-خطوط الطول	ب-دوائر العرض	ج-الحدود
٣-	تصلح الجبال حدوداً مستقرة بسبب	د-السهول	
	أ-وعورتها واحوالها الجوية القاسية	ب-توفر الماء	ج- خصوبة التربة
٤-	أكثر الخصائص الطبيعية شيوعاً في الحدود	د-سهولة عبورها	
	أ-الجبال	ب- الصحراء	ج- المياه
٥-	يبلغ عدد الدول الداخلية في العالم	د-السهول	
	أ- ٣٩	ب- ٤٩	ج- ٥٩
٦-	الدولة التي تحيط بها دولة أخرى إحاطة كاملة تعرف بـ	د-السهول	
	أ- الشكل المندمج	ب-الشكل الشريطي	ج- الشكل المنقوب
٧-	تصنف دولة تشيلي في أمريكا الجنوبية من الدول ذات الشكل	د-السهول	
	أ- المندمج	ب- المتجزئ	ج- الشريطي
٨-	وحدة سياسية تحكمها حكومة	د-السهول	
	أ- الدولة	ب- الاقليم	ج-القارة
٩-	أصغر دول العالم من حيث المساحة دولة	د-المدنية	
	أ-جزر القمر	ب-الفاتيكان	ج-المالديف
١٠-	أكبر دول العالم من حيث المساحة	د-المدنية	
	أ-روسيا	ب-كندا	ج-الصين
١١-	إذا اتفقت الحدود مع امتداد جبلي فإنها تسمى حدود	د-المدنية	
	أ-هندسية	ب-طبيعية	ج-ساحلية
			د-حضارية

الإشارة	ضعي علامة صح أمام العبارة الصحيحة وعلامة خطأ أمام العبارة الخاطئة
	١- ترافق الحدود المائية مشكلات منها تغير النهر لمجره
	٢- تتصف المياه بانها حدود سلام لما وجد فيها من الندرة السكانية
	٣- كلما زادت مساحة الدولة زاد إمكانية الحصول على ثروات كثيرة
	٤- تعاني دولة كندا في أمريكا الشمالية مشكلة كثرة دول الجوار
	٥- يؤثر شكل الدولة في سهولة الإدارة الداخلية والتماسك الاجتماعي
	٦- عرفت الدول الداخلية بانها لا تطل على مسطحات مائية
	٧- يكثر وجود الحدود الصحراوية في قارة أوروبا
	٨- قسمت دولة السودان الى دولتين على أساس ديني
	٩- المساحة الكبيرة لدول على مر العصور تدل على رمز القوة

السؤال الثاني: (الصواب والخطأ) من فقرة ١ الى ٩

السؤال الثالث : أكملی العبارات التالية بما يناسبها

١- الوحدة السياسية التي تحكمها حكومة مستقرة وتشغل منطقة من سطح الأرض هي

٢- تصلح المظاهر الطبيعية أن تكون حدودا طبيعية مثل الجبال.....و.....

٣- الدول التي لا تطل على مسطحات مائية تعرف باسم.....

٤- هناك دول حبيسة في قارة أفريقيا مثل و.....

السؤال الرابع : أجبني عن المطلوب فيما يأتي (مقالی من ١ الى ٧)

١- عللي لما يأتي

- تصلح الجبال الوعرة حدودا مستقرة بين الدول ؟
- تشكل الحدود الطبيعية أكثر نفعا في رسم الحدود

٢- صفني الدول التالية حسب الشكل المطلوب في الجدول

م	الدولة	الشكل
١-	فرنسا	المتجزئ
٢-	باكستان	المتقوب
٣-	تشيلي	المندمج المنتظم
٤-	ليسوتو	الشريطي

٣- اذكر ابرز المشكلات التي تنشأ عند جعل المياه حدوداً طبيعية بين الدول ؟

.....
.....

تابع السؤال الثالث : مقال

٤- قارني بين المفاهيم التالية :

- ١- الحدود الطبيعية والحدود الهندسية بين الدول .
- ٢- المياه الإقليمية والمياه الدولية
- ٣- الشكل المندمج والشكل المنبعج للدولة

٥- عللي ظهور الزراعة الراقية في السهول الفيضية

٦- صنف الدول التالية بحسب دول الجوار وفقاً للجدول المرفق :

(روسيا , البرازيل , اثيوبيا , استراليا , كندا , الفلبين , الصين , روسيا)

دول حبيسة	دول متعددة الجوار	دول لا تحيطها دول مجاورة	دول تحدها دولة واحدة

٧- صنف الدول التالية حسب أشكالها وفقاً للجدول المرفق :

(فرنسا , الكونغو , تشيلي , باكستان , ليسوتو)

الشكل المنتظم	الشكل المنبعج	الشكل الشريطي	التجزؤ	المثقوبة

أنتهت أسئلة الوحدة العاشرة

السؤال الأول : أختاري الإجابة الصحيحة مما يأتي (الاختياري من ١ الى ٨)

١-	ترتبط حرفة الصيد قديماً بحرفة		
	أ-الجمع والالتقاط	ب-الرعي	ج-الغابات
	د-الزراعة		
٢-	تعد حرفة الصيد النشاط الرئيس لسكان الجهات الساحلية الجبلية في غرب قارة		
	أ-أمريكا	ب-أوروبا	ج-آسيا
	د- أستراليا		
٣-	أكثر أنواع الغابات استغلالاً في قطع الأخشاب		
	أ- الصنوبرية	ب-النفضية	ج- الموسمية
	د-الاستوائية		
٤-	تحويل المواد الخام من صورتها الطبيعية الى صورة أخرى تزيد من قيمتها تعرف بـ		
	أ- التجارة	ب-الصناعة	ج-الزراعة
	د-التعدين		
٥-	زراعة بسيطة هدفها سد حاجة السكان تزاولها شعوب وسط إفريقيا		
	أ-الزراعة البدائية	ب-الزراعة الراقية	ج-الزراعة الواسعة
	د-الزراعة الحديثة		
٦-	تعد من مناطق الإنتاج الرعوي التجاري الرئيسة في العالم		
	أ-اعشاب السافانا	ب- شبه الصحراوية	ج-مناطق الاستبس
	د-مناطق التندرا		
٧-	اختلاف الإنتاج بين الدول ووجود فائض في الإنتاج من ركائز حرفة		
	أ-الزراعة	ب-الصناعة	ج-السياحة
	د-التجارة		
٨-	الزراعة حول الأنهار تعد زراعة		
	أ-بدائية	ب-متنقلة	ج-راقية
	د-الموسمية		

السؤال الثاني: (الصواب والخطأ من ١ الى ٨)

الإشارة	ضعي علامة صح أمام العبارة الصحيحة وعلامة خطأ أمام العبارة الخاطئة
	١- يعمل ١٪ من القوى العاملة العالمية في الغابات ويعتمدون في حياتهم على استثمارها
	٢- أول ظهور لزراعة الراقية في السهول الفيضية لأنهار دجلة والفرات والنيل
	٣- اتسمت الزراعة البدائية بتنوع في المحاصيل والتخصص في الإنتاج الزراعي
	٤- يعتمد قبائل البوشمن على الزراعة الكثيفة في حياتهم
	٥- ينتشر الرعي التجاري في الامريكيتين وأستراليا وإفريقيا
	٦- تعد المعادن حجر الأساس الذي تقول عليه النهضة الصناعية في العالم
	٧- ترتفع تكاليف إنتاج المعادن في المناطق الوعرة والبعيدة عن سبل المواصلات
	٨- السياحة البيئية أحد أوجه الاستثمار الحكيم للموارد المتجددة

السؤال الثالث : أجبني عن المطلوب مما يأتي (مقالتي من ١ الى ٨)

١- اوجدي أوجه الشبه والاختلاف بين الزراعة الكثيفة والزراعة الواسعة

الزراعة الواسعة	الزراعة الكثيفة	أوجه الشبه
		أوجه الاختلاف

٢- هل توافقين على العبارات التالية مع ذكر السبب

- ١- المناطق النهرية تتميز بوفرة وتجدد خصوبة التربة
- ٢- استمرار تناقص الغابات في العالم
- ٣- اختلاف الأساليب المتبعة في الرعي في إقليم التندرا

٣- عدد لما يأتي

- ١- العوامل الجغرافية التي تؤثر في حرفة التعدين
- ٢- أسباب اهتمام المملكة بتطوير السياحة البيئية
- ٣- مناطق الرعي في العالم

٤-رتبي الغابات حسب الأولوية في استغلال الاخشاب

م	الغابات	الترتيب
١-	الاستوائية	
٢-	الموسمية	
٣-	النفضية	
٤-	السنوبرية	

٥-صفي الأسلوب المتبع في الزراعة المتقلدة قديما في قارة إفريقيا ؟

.....

.....

٦-صنفي/ي الدول التالية بحسب نوع الزراعة المنتشرة فيها :

(الصين , الأرجنتين , الهند , أستراليا)

الزراعة الكثيفة	الزراعة الواسعة
الصين	أستراليا
الهند	الأرجنتين

٧-عرفي

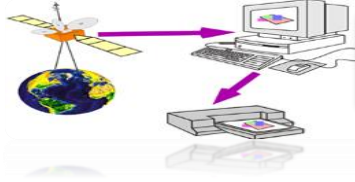
الصناعة ، التجارة ، السياحة

٨-صنفي الحيوانات التالية حسب نطاق الأعشاب بالجدول المرفق

(الأبقار , الابل , الأغنام , الرنة)

نطاق السافانا	المناطق شبه الصحراوية	مناطق التندرا

إنتهت أسئلة الوحدة الحادية عشر



الوحدة الثانية عشر : الخرائط والتقنيات الحديثة

السؤال الأول : اختاري الإجابة الصحيحة مما يأتي من (١ إلى ١٤)

أختاري الإجابة الصحيحة مما يأتي :

١-	تمثيل لسطح الكرة الأرضية أو جزء منه على لوحة مستوية	أ-خطوط الطول	ب-الخريطة	ج-الحدود	د- دوائر العرض
٢-	اسم يميز الخريطة عن غيرها ويسهل على القارئ معرفة الهدف الذي رسمت من أجله هو	أ-عنوان	ب-مفتاح	ج-إطار	د- مقياس
٣-	مجموعة المصطلحات التي تمثل الظواهر الطبيعية والبشرية على الخريطة هو	أ-عنوان	ب-مفتاح	ج- إطار	د-مقياس
٤-	رسم المسلمون ٢١ خريطة للعالم الإسلامي أطلقوا عليه اطلس	أ-العرب	ب-الإسلام	ج-الدول	د-العالم
٥-	خرائط تفصيلية ذات مقاس كبير تستخدم في توضيح المعالم الحضارية لدولة ما	أ-الكهف	ب-الطبوغرافية	ج-المليونية	د-التضاريسية
٦-	خرائط توضيحية تستخدم في الصفوف الدراسية وسائل تعليمية	أ-خرائط المقياس الكبير	ب-خرائط المقياس المتوسط	ج-الخرائط الجيولوجية	د-خرائط المقياس الصغير
٧-	يستخدم اللون البني بدرجاته في الخريطة دليل على	أ-المسطحات المائية	ب-السهول	ج-الأراضي المرتفعة	د-الأراضي المنخفضة
٨-	يحدد موقع اتجاه الشمال في الخريطة في الجزء	أ-السفلي الأيمن	ب-السفلي الأيسر	ج-العلوي الأيمن	د-العلوي الأيسر
٩-	استخدم جهاز GPS أول مره للاستخدامات العسكرية في دولة	أ-الولايات المتحدة الأمريكية	ب-إيطاليا	ج-ألمانيا	د-روسيا
١٠-	يدل اللون الأسود في بيانات الاستشعار عن بعد على	أ-الصخور والتربة	ب-النباتات الخضراء	ج-المياه العميقة الصافية	د-المياه المحملة بالرواسب
١١-	للاستشعار عن بعد مكونات منها	أ-المواسح	ب-الخرائط	ج-الصور	د-أجهزة الاستقبال
١٢-	تلتقط الصور الفضائية بواسطة	أ-طائرات خاصة	ب-المنطاد	ج-المكوك الفضائي	د-القمر الصناعي
١٣-	عملية نقل السطح المنحني للكرة الأرضية الى سطح مستو على الورق هو	أ-مسقط	ب-مقياس	ج-مفتاح	د-إطار
١٤-	تظهر النباتات الخضراء في بيانات الاستشعار بدرجات اللون	أ-الأزرق الناصع	ب-الأحمر	ج-الاسود	د-الرمادي والأزرق

السؤال الثاني: (الصواب والخطأ من ١ الى ٧)

الإشارة	ضعي علامة صح امام العبارة الصحيحة وعلامة خطأ امام العبارة الخاطئة
	١- استخدم العرب قديما الشعر لوصف بعض المناطق في جزيرة العرب
	٢- نظام الاحداثيات نظام وهمي على سطح الأرض تتقاطع فيه دوائر العرض والطول بزواوية قائمة
	٣- يفيد مفتاح الخريطة تحديد امتداد الجزء الذي تمثله الخريطة من الطبيعة
	٤- كان أول ظهور لنظم المعلومات الجغرافية GIS مع ثورة المعلومات المعاصرة في المانيا عام ١٩٦٤م
	٥- الخرائط المليونية وصف يعطى للخرائط الكدسترالية
	٦- يحقق المسقط المخروطي المساحات الصحيحة للقارات
	٧- خرائط المقياس الصغير هي الخرائط التي ترسم بمقياس رسم يزيد على (١ : ١٠٠٠٠٠)

السؤال الثالث : أجبني عن المطلوب فيما يأتي (مقالتي من ١ الى ٧)

١- عرض المعلومات وطريقة الحصول عليها يختلف باختلاف الأداة المستخدمة (على ضوء ذلك قارني بين الخرائط والصور الجوية والصور الفضائية وعلاقتها بالخرائط

الخرائط	الصور الجوية	الصور الفضائية

تابع السؤال الثالث (مقالي)

٢- عددي لما يأتي

- ١- خصائص خطوط الكنتور
- ٢- عيوب نظام تحديد المواقع العالمي CPS
- ٣- تصنيفات برامج الخرائط المستعملة في الحاسب
- ٤- تطبيقات نظم المعلومات الجغرافية
- ٥- أنواع المساقط

٣- عللي : تعد خطوط الكنتور افضل وسيلة لتمثيل لسطح الأرض

٤- صممي خارطة مفاهيم لإشكال مقاييس الرسم

٥- عرفني الاستشعار عن بعد .

٦- مثلي لما يأتي

أ- خرائط ذات مقياس رسم كبير

ب- خرائط ذات مقياس رسم صغير

٧- صنفني الخرائط التالية حسب نوعها وفق ما درستي :



انتهت أسئلة الوحدة الثانية عشر