


ملخص لأهم القوانين والعلاقات الرياضية



تجميع فوزية المغامسي

أولاً: الحساب

التعريفات والقوانين

المفردة

م

الأعداد الطبيعية = $\{ \dots, 1, 2, 3, \dots \}$
 الأعداد الكليّة = $\{ \dots, 1, 2, 3, \dots, 0 \}$
 الأعداد الصحيحة = $\{ \dots, -2, -1, 0, 1, 2, \dots \}$
 الأعداد النسبيّة ن = $\{ \frac{أ}{ب} \text{ حيث } أ, ب \in \mathbb{Z}, ب \neq 0 \}$
 الأعداد غير النسبيّة ن = الجذور الصماء مثل $\sqrt{3}, \sqrt{5}, \sqrt{7}, \pi$
 الأعداد الحقيقيّة ح = ن \cup ن
 العدد الزوجي : هو الذي أحاده يقبل القسمة على 2
 العدد الفردي : هو الذي أحاده لا يقبل القسمة على 2
 الأعداد الأوليّة : هي الأعداد الصحيحة الأكبر من 1 ولا تقبل القسمة إلا على نفسها والواحد الصحيح مثل $\{ 2, 3, 5, 7, 11, 13, \dots \}$

المجموعات
العددية

1

$$(1) \frac{أ + ب}{د} = \frac{أ}{د} + \frac{ب}{د}$$

$$(2) \frac{أ - ب}{د} = \frac{أ}{د} - \frac{ب}{د}$$

$$(3) \frac{أ \times ب}{د} = \frac{أ}{د} \times ب$$

$$(4) \frac{أ}{د} \div \frac{ب}{ج} = \frac{أ}{د} \times \frac{ج}{ب} = \frac{أ \times ج}{د \times ب}$$

الكسور
الاعتيادية

2

(1) في حالة الضرب في قوى العشرة نحرك العلامة العشرية جهة اليمين عدد من المنازل يساوي عدد الأصفار في قوى العشرة .

مثال : $12,5 = 10 \times 1,25$ ، $125,0 = 100 \times 1,25$ ، $1250,0 = 1000 \times 1,25$

(2) في حالة القسمة على قوى العشرة نحرك العلامة العشرية جهة اليسار عدد من المنازل تساوي عدد الأصفار في قوى العشرة .

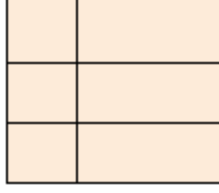
مثال : $0,125 = 10 \div 1,25$ ، $0,0125 = 100 \div 1,25$ ، $0,00125 = 1000 \div 1,25$

الكسور
العشرية

3

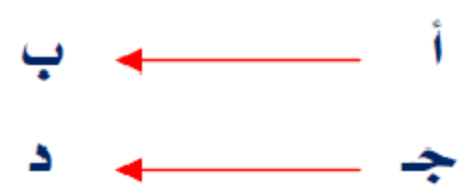


أولاً: الحساب

التعريفات والقوانين	المفردة	م
<p style="text-align: center;">قوانين الحركة بالنسبة لجسم واحد :</p> <p style="text-align: center;">(١) المسافة = السرعة × الزمن</p> <p style="text-align: center;">(٢) السرعة = $\frac{\text{المسافة}}{\text{الزمن}}$</p> <p style="text-align: center;">(٣) الزمن = $\frac{\text{المسافة}}{\text{السرعة}}$</p> <p style="text-align: center;">قوانين حركة جسمين في اتجاهين متعاكسين :</p> <p style="text-align: center;">(١) ف = (٢٤ + ١٤) × ن</p> <p style="text-align: center;">(٢) ن = $\frac{\text{ف}}{٢٤ + ١٤}$</p> <p style="text-align: center;">(٣) $\frac{\text{ف}}{\text{ن}} = ٢٤ + ١٤$</p> <p style="text-align: center;">قوانين حركة جسمين في اتجاه واحد :</p> <p style="text-align: center;">(١) ف = (٢٤ - ١٤) × ن</p> <p style="text-align: center;">(٢) ن = $\frac{\text{ف}}{٢٤ - ١٤}$</p> <p style="text-align: center;">(٣) $\frac{\text{ف}}{\text{ن}} = ٢٤ - ١٤$</p> <p style="text-align: center;">ملاحظة: الحركة في اتجاهين متعاكسين نجمع السرعتين ، الحركة في اتجاه واحد نطرح السرعتين .</p>	الحركة	٤
<p>(١) السرعة المتوسطة (ذهاباً وإياباً) = $\frac{\text{المسافة الإجمالية (ذهاباً وإياباً)}}{\text{الزمن الإجمالي (ذهاباً وإياباً)}}$</p> <p>(٢) السرعة المتوسطة = $\frac{٢ \times \text{حاصل ضرب السرعتين}}{\text{مجموع السرعتين}}$</p> <p>(٣) $\frac{٢}{\text{ع المتوسطة}} = \frac{١}{\text{ع الإياب}} + \frac{١}{\text{ع الذهاب}}$</p>	السرعة المتوسطة	٥

م	المفردة	التعريفات والقوانين
٦	عدد المستطيلات	<p>عدد المستطيلات الناشئة من تقسيم مستطيل إلى مستطيلات صغيرة يعطى بالقانون التالي :</p> $\text{عدد المستطيلات} = \frac{م(م+١) \times ن(ن+١)}{٤}$ <p>حيث : م = عدد الصفوف ، ن = عدد الأعمدة</p>
٧	عدد المربعات	<p>عدد المربعات الناشئة من تقسيم مربع طول ضلعه ن يعطى بالقانون التالي :</p> $\sum_{ر=١}^ن ر^٢$ <p>حيث ر = ١، ٢، ٣، ...، ن</p> <p>مثال : كم عدد المربعات في الشكل التالي :</p>  <p>الحل :</p> $\sum_{ر=١}^٣ ر^٢ = ١^٢ + ٢^٢ + ٣^٢ = ١ + ٤ + ٩ = ١٤$ <p>مربعاً</p>
٨	قدرة العامل والصنبور	<p>قاعدة (١) :</p> <p>مدة إنجاز العمل كله - حاصل ضرب العددين مجموع العددين</p> <p>قاعدة (٢) :</p> <p>ما ينجز خلال يوم أو ساعة - مجموع العددين حاصل ضربيهما</p> <p>مدة إنجاز العمل كله - ما ينجز خلال يوم أو ساعة</p> <p>قاعدة (٣) :</p> $\frac{١}{ز} + \frac{١}{ز٢} - \frac{١}{ز}$ <p>حيث :</p> <p>ز زمن (مدة إنجاز العمل سوياً)</p> <p>ز١ زمن الشخص الأول بمفرده</p> <p>ز٢ زمن الشخص الثاني بمفرده</p> <p>مثال : يستغرق سالم ٨ ساعات لحرث حقل والده بينما يستغرق صالح ١٠ ساعات لحرث الحقل نفسه ، إذا عمل الاثنان معاً في حرث الحقل فكم يستغرقان من الوقت ؟</p> <p>إذا</p> $\frac{١٨}{٨٠} = \frac{١}{١٠} + \frac{١}{٨} = \frac{١}{ز} + \frac{١}{ز} = \frac{١}{ز}$ $ز = \frac{٨٠}{١٨} = ٤ \frac{٤}{٩} \text{ ساعة}$

أولاً: الحساب

م	المفردة	التعريفات والقوانين
٨	قدرة العامل والصنبور	<p style="text-align: center;">قاعدة (٤) : $\frac{\text{حاصل الضرب}}{\text{حاصل الجمع}} = \text{زمن التعبئة}$ قاعدة (٥) : $\frac{\text{حاصل الضرب}}{\text{حاصل الطرح}} = \text{زمن التفريغ}$</p> <p>مثال : صنبور ماء يملأ خزان في ٤ ساعات ، وفي أسفل الخزان يوجد فتحة للتفريغ ، تفرغ الخزان كاملاً في ساعة . لو فتحنا الصنبور والفتحة معاً (وكان الخزان ممتلئاً) فكم يحتاج الخزان من الوقت ليضغ تماماً ؟</p> <p style="text-align: right;">الحل :</p> <p style="text-align: right;">١ ساعة = ٦٠ دقيقة ٤ ساعات - ٦٠ × ٤ - ٢٤٠ دقيقة</p> <p style="text-align: center;"> $\text{زمن التفريغ} = \frac{\text{حاصل الضرب}}{\text{حاصل الطرح}} = \frac{٦٠ \times ٢٤٠}{٦٠ - ٢٤٠} = \frac{١٤٤٠٠}{١٨٠} = ٨٠ \text{ دقيقة}$ </p>
٩	النسبة	<p>لايجاد النسبة نضع العدد الذي معه كلمته إلى في المقام ثم نبسط الكسرين أمكن .</p>
١٠	التناسب	<p>إذا كانت الأعداد أ ، ب ، ج ، د متناسبة فإن $\frac{أ}{ب} = \frac{ج}{د} \iff أ \times د = ب \times ج$ (حاصل ضرب الطرفين = حاصل ضرب الوسطين)</p>
١١	التناسب الطردي	<p>في كثير من المواقف الحياتية تلاحظ أن هناك علاقة بين كميتين وتلاحظ أيضاً أن الزيادة في إحدى الكميتين يتبعها زيادة في الكمية الأخرى بالنسبة نفسها . أو النقصان في إحدى الكميتين يتبعها نقصان في الكمية الأخرى بالنسبة نفسها . العلاقة هي :-</p> <div style="text-align: center;"> </div> <p style="text-align: right;">إذا :</p> <p>مثال : إذا كان ثمن ١٠ دفاتر يساوي ١٢ ريال . فكم يبلغ ثمن ١٥ دفترًا من النوع نفسه ؟</p> <p style="text-align: right;">الحل :</p> <div style="text-align: center;"> </div> <p style="text-align: center;">(كلما زاد عدد الدفاتر زاد الثمن) نوع التناسب طردي</p> <p style="text-align: right;"> $١٠ \times س = ١٢ \times ١٥$ س = ١٨ ريال </p>

م	المفردة	التعريفات والقوانين
١٢	التناسب العكسي	<p>في كثير من المواقف الحياتية تلاحظ أن هناك علاقة بين كميتين وتلاحظ أيضاً أن الزيادة في إحدى الكميتين يتبعها نقصان في الكمية الأخرى بالنسبة نفسها أو النقصان في إحدى الكميتين يتبعها زيادة في الكمية الأخرى بالنسبة نفسها العلاقة هي :</p> <p style="text-align: center;">  </p> <p style="text-align: center;">إذاً :</p> <p style="text-align: center;">$أ \times ب = ج \times د$</p> <p>مثال : ينهي ٥٦ عاملاً مشروعاً خلال ٣ أيام . كم عاملاً يستطيعون إنهاء المشروع في يومين ؟ الحل :</p> <p style="text-align: center;">  </p> <p>(قللت عدد الأيام لازم أزود عدد العمال) نوع التناسب عكسي</p> <p style="text-align: center;">إذاً</p> <p style="text-align: center;">$س \times ٢ = ٣ \times ٥٦$</p> <p style="text-align: center;">$س = ٨٤$ عاملاً</p>
١٣	الضرب التبادلي	<p>الخانة الأولى للأشخاص ، الخانة الثانية للمادة ، الخانة الثالثة للزمن</p> <p>مثال : يقطع ثلاث عمال ٢ ألواح خشبية إلى قطع متساوية في ٢ دقائق ، كم لوحاً يقطعها ٩ عمال في ٤ ساعات ؟ الحل :</p> <p>نحول من ساعة إلى دقيقة - $٤ \times ٦٠ = ٢٤٠$ دقيقة</p> <p style="text-align: center;">  </p> <p style="text-align: center;">إذاً</p> <p style="text-align: center;">$٢ \times س = ٩ \times ٢٤٠$</p> <p style="text-align: center;">$س = ٢٧٠$ لوحاً</p>

م	المفردة	التعريفات والقوانين
١٤	النسبة المنوية	<p>النسبة $\frac{٧٥}{١٠٠}$ تسمى نسبة مئوية لأن حدها الثاني ١٠٠ وتكتب على الصورة ٧٥% وتقرأ ٧٥ في المائة</p> <p>وعلى ذلك فإن $٧٥\% = \frac{٧٥}{١٠٠} = ٠,٧٥$</p> <p>قاعدة: النسبة المئوية = $\frac{\text{الجزء}}{\text{الكل}} \times ١٠٠$</p> <p>مثال: ما هي النسبة المئوية للعدد ٩ من ٤٥ .</p> <p>الحل: النسبة المئوية = $\frac{٩}{٤٥} \times ١٠٠ = ٢٠\%$</p>
١٥	مقياس الرسم	<p>مقياس الرسم = $\frac{\text{الطول في الرسم}}{\text{الطول الحقيقي}}$</p> <p>مثال: المسافة بين بلدين ٢٥ كيلو متراً ، فإذا كانت المسافة بين البلدين على الخريطة ٥ سنتيمترات . أوجد مقياس الرسم الذي رسمت به هذه الخريطة ؟</p> <p>الحل:</p> <p>مقياس الرسم = $\frac{\text{الطول في الرسم}}{\text{الطول الحقيقي}} = \frac{٥}{١٠٠ \times ١٠٠٠ \times ٢٥} = \frac{١}{٧٠٠٠٠٠}$</p>

ضرب وقسمة قوتين لعدد:

$$\bullet s^m \times s^n = s^{m+n}$$

$$\bullet s^m \div s^n = s^{m-n}$$

قوة حاصل ضرب عددين:

$$(s \times v)^n = s^n \times v^n$$

قوة حاصل قسمة عددين

$$\left(\frac{s}{v}\right)^n = \frac{s^n}{v^n} \quad v \neq \text{صفر}$$

مثال:

$$s^3 \times s^4 = s^{(3+4)} = s^7$$

$$s^{13} \div s^8 = s^{(13-8)} = s^5$$

مثال:

$$(s \times v)^4 = s^4 \times v^4$$

مثال:

$$\frac{9}{25} = \frac{3^2}{5^2} = \left(\frac{3}{5}\right)^2$$

مثال:

$$(s^3)^4 = s^{3 \times 4} = s^{12}$$

مثال:

$$\sqrt[3]{12} = \sqrt[3]{3 \times 4} = \sqrt[3]{3 \times 2^2}$$

$$s^{\frac{1}{a}} = \sqrt[a]{s}$$

قوة قوة عدد:

$$(s^m)^n = s^{m \times n}$$

تبسيط الجذور التربيعية:

نحلل العدد ثم نخرج من داخل الجذر التربيعي العدد المربع (ذات الأس الزوجي).

قوة عدد نسبي:

م	المفردة	التعريفات والقوانين
		<p>جمع وطرح الجذور التربيعية:</p> <p>لجمع الجذور التربيعية نبسطها أولاً ، ثم نجمع عوامل الجذور المتشابهة بعد تبسيطها.</p> <p>مثال:</p> $\sqrt{5} = \sqrt{3+2} = \sqrt{3} + \sqrt{2}$
		<p>ضرب وقسمة الجذور التربيعية:</p> <ul style="list-style-type: none"> • $\sqrt{a \times b} = \sqrt{a} \times \sqrt{b}$ ، $0 \leq a, b$ صفر • $\sqrt{\frac{a}{b}} = \frac{\sqrt{a}}{\sqrt{b}}$ ، $0 \leq a$ ، $b > 0$ صفر <p>مثال:</p> $\sqrt{15} = \sqrt{5 \times 3} = \sqrt{5} \times \sqrt{3}$ $\sqrt{2} = \frac{\sqrt{6}}{\sqrt{3}} = \frac{\sqrt{6}}{\sqrt{3}}$
تابع الأسس والجذور		<p>الأسس السالبة والكسرية:</p> <ul style="list-style-type: none"> • $\frac{1}{\sqrt[n]{s}} = \sqrt[n]{s^{-1}}$ ، $s \neq 0$ صفر • $\sqrt[n]{\left(\frac{s}{t}\right)} = \sqrt[n]{\left(\frac{s}{t}\right)^{-1}}$ ، $s \neq 0$ صفر • $\sqrt[n]{\frac{1}{s}} = \frac{1}{\sqrt[n]{s}}$ ، $0 < s$ صفر <p>مثال:</p> $\frac{1}{9} = \frac{1}{3^2} = 3^{-2}$ $\frac{9}{25} = \frac{3^2}{5^2} = \left(\frac{3}{5}\right)^2 = \left(\frac{5}{3}\right)^{-2}$ $2 = \sqrt[4]{16} = \frac{1}{\sqrt[4]{\frac{1}{16}}}$

تذكري دائمًا أن :

$36 = {}^2(6)$	$25 = {}^2(5)$	$16 = {}^2(4)$	$9 = {}^2(3)$	$4 = {}^2(2)$
$121 = {}^2(11)$	$100 = {}^2(10)$	$81 = {}^2(9)$	$64 = {}^2(8)$	$49 = {}^2(7)$
$900 = {}^2(30)$	$625 = {}^2(25)$	$400 = {}^2(20)$	$225 = {}^2(15)$	$144 = {}^2(12)$

تابع
الأسس
والجنور

من خواص الأسس:

- أيُّ عدد حقيقي أسه صفر فإن الناتج = ١
- إذا كان $ع^ص = ع^ص$ ؛ فإن $ص = ص$
- بمعنى آخر : إذا تساوى الأساس فإن الأسس متساوية .

المفردة	م
<p>حساب العبارة: لحساب القيمة العددية لعبارة جبرية نعوض القيمة المعطاة بدل المتغير</p>	
<p><u>مثال:</u> أوجد القيمة العددية للعبارة الجبرية $s^2 + 5s - 6$ عندما $s = -2$. القيمة = $(-2)^2 + 5(-2) - 6 = 4 - 10 - 6 = -12$</p>	
<p>جمع وطرح وحيدات الحد المتشابهة: نجمع ونطرح العوامل بينما الجزء الحرفي يبقى على ما هو عليه.</p>	
<p><u>مثال:</u> $2s^2 + 3s = s(3+2) = 5s$</p>	
<p>الفرق بين مربعين: $a^2 - b^2 = (a+b)(a-b)$</p>	<p>العبارات الجبرية</p>
<p><u>مثال:</u> جمع وطرح كثيرات الحدود: نجمع ونطرح المعاملات المتشابهة $(3s^2 + 5s - 7) - (s^2 + 7s - 12)$ $= 3s^2 + 5s - 7 - s^2 - 7s + 12$ $= 2s^2 - 2s + 5$</p>	
<p><u>مثال:</u> $s^2 - 9 = (s+3)(s-3)$</p>	
<p>مربع مجموع حدين: $(a+b)^2 = a^2 + 2ab + b^2$</p>	
<p><u>مثال:</u> $9 + 12s + 4s^2 = (3+2s)^2$</p>	
<p>مربع الفرق بين حدين: $(a-b)^2 = a^2 - 2ab + b^2$</p>	
<p><u>مثال:</u> $25 + 10s + 4s^2 = (5+2s)^2$</p>	
<p>الفرق بين مكعبين = مجموع مكعبين =</p>	
<p>$a^3 - b^3 = (a-b)(a^2 + ab + b^2)$</p>	
<p>$a^3 + b^3 = (a+b)(a^2 - ab + b^2)$</p>	

حل المعادلة الخطية:

حل معادلة خطية نفعل ما هو ضروري في طرفي المعادلة لجعل المتغيرات في طرف والأعداد في طرف.

مثال: حل المعادلة $5س - 12 = -2س + 9$.

$$\underline{\text{الحل:}} \Leftarrow 5س + 9 = 12 + 2س$$

$$\Leftarrow 7س = 3$$

حل المعادلات التربيعية:

حل معادلة الدرجة الثانية نستخدم التحليل أو إكمال المربع أو القانون العام المميز.

مثال: حل المعادلة: $س^2 + 5س + 6 = 0$ صفر

الحل: نبحث عن عددين حاصل ضربهما 6 وحاصل

جمعهما 5 ، فنجد أنهما 2 ، 3 . إذاً:

$$س^2 + 5س + 6 = 0 \Leftarrow (س+2)(س+3) = 0$$

$$\Leftarrow (س+2) = 0 \text{ أو } (س+3) = 0$$

$$\Leftarrow س = -2 \text{ أو } س = -3$$

حل نظام معادلتين من الدرجة الأولى ذات مجهولين:

نوحد المعادلتين إلى معادلة واحدة بحيث نقوم بحذف أحد المتغيرين.

مثال: حل النظام: $س + ص = 6$ ، $2س - 3ص = 7$.

الحل: لكي نحذف ص نضرب المعادلة الأولى في 3 ثم نجمع المعادلتين.

$$3س + 3ص = 18$$

$$2س - 3ص = 7 \Leftarrow 5س = 25 \Leftarrow س = 5$$

بالتعويض في المعادلة الأولى نحصل على:

$$5 + ص = 6 \Leftarrow ص = 1$$

إذاً: حل النظام هو (5 ، 1)

حل المتباينات:

- نجعل المتغيرات في طرف والأعداد في طرف.
- عند ضرب أو قسمة المتباينة بعدد سالب نعكس اتجاه المتباينة.

مثال: حل المتباينة: $2س + 5 > 4س + 17$

$$\underline{\text{الحل:}} \Leftarrow 2س - 4س > 17 - 5$$

$$\Leftarrow -2س > 12 \quad (\text{بقسمة الطرفين على } -2)$$

$$\Leftarrow س < -6$$

حل
المعادلات

رابعاً : الإحصاء والاحتمالات

التعريفات والقوانين

$$\text{المتوسط الحسابي} = \frac{\text{مجموع القيم}}{\text{عددها}}$$

$$\text{الوسط الحسابي لعينة من الأرقام تمثل متتابة حسابية} = \frac{\text{أصغر عدد} + \text{أكبر عدد}}{2}$$

$$\text{مجموع القيم} = \text{الوسط الحسابي} \times \text{عدد القيم}$$

مثال : أوجد مجموع عشرة أعداد وسطها الحسابي يساوي ٦٠ ؟

$$\text{الحل : مجموع القيم} = 60 \times 10 = 600$$

♦ إيجاد العدد الناقص باستخدام الوسط الحسابي = العدد الناقص - (الوسط الحسابي ضرب عدد القيم) - مجموع القيم المعطاة

مثال : إذا كان الوسط الحسابي للأعداد ٨ ، ١٢ ، س يساوي ١١ أوجد قيمة س ؟

$$\text{الحل : العدد الناقص} = (\text{الوسط الحسابي} \times \text{عدد القيم}) - \text{مجموع القيم المعطاة}$$

$$س = (11 \times 3) - (8 + 12) = 33 - 20 = 13$$

♦ الوسيط : الوسيط هو القيمة المتوسطة في الترتيب بعد ترتيب القيم تصاعدياً أو تنازلياً .

♦ المنوال : المنوال هو القيمة الأكثر شيوعاً .

♦ مبدأ العد : إذا كان هناك إجراء معين يتم به ١م طريقة ثم يتبعه إجراء معين يتم به ٢م طريقة فإن الإجراءين يتم به ١م × ٢م طريقة .

$$\text{احتمال أي حدث منتظم} = \frac{\text{عدد عناصر الحدث}}{\text{عدد عناصر فراغ العينة}}$$

$$\text{عدد المصافحات} : \text{عدد المصافحات التي تتم بين مجموعة من الأشخاص عددهم } n \text{ هو : } \binom{n}{2} = \frac{n \times (n-1)}{2}$$

مثال : تقابل ٦ أشخاص في مكان ما ، إذا صافح كل شخص منهم الآخر مرة واحدة فقط . فكم عدد المصافحات التي تمت ؟

$$\text{الحل : عدد المصافحات} = \binom{6}{2} = \frac{6 \times (6-1)}{2} = \frac{30}{2} = 15$$

هندسة الإحداثيات :

المسافة بين نقطتين :

المسافة بين نقطتين (س_١ ، ص_١) ، (س_٢ ، ص_٢) تساوي :

$$\sqrt{(س_٢ - س_١)^2 + (ص_٢ - ص_١)^2}$$

منتصف القطعة المستقيمة :

النقطة المنصفتة بين النقطتين (س_١ ، ص_١) ، (س_٢ ، ص_٢) هي :

$$\left(\frac{س_١ + س_٢}{٢} , \frac{ص_١ + ص_٢}{٢} \right)$$

إيجاد الميل باستخدام نقطتين :

ميل المستقيم المار بالنقطتين (س_١ ، ص_١) ، (س_٢ ، ص_٢) هو :

$$م = \frac{ص_٢ - ص_١}{س_٢ - س_١}$$

إيجاد الميل باستخدام معادلة المستقيم :

ميل المستقيم الذي معادلته ص = أ س + ب هو أ

معادلة المستقيم المار بنقطتين :

معادلة المستقيم المار بالنقطتين (س_١ ، ص_١) ، (س_٢ ، ص_٢) هي :-

$$\frac{ص - ص_١}{س - س_١} = \frac{ص_٢ - ص_١}{س_٢ - س_١}$$

(ص - ص_١) = الميل (س - س_١)

يقال عن مستقيمين إنهما متوازيان عندما لا يلتقيان أبداً مهما امتدا

ويلاحظ أن المستقيمين المتوازيين يكون لهما نفس الميل

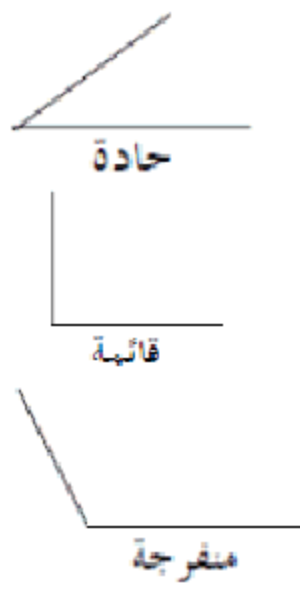
بمعنى أن : م_١ = م_٢

يقال عن مستقيمين إنهما متعامدان إذا كانت الزاوية بينهما قائمة (٩٠ درجة) ويلاحظ أن

المستقيمين المتعامدين يكون ميل أحدهما مساوياً لمقلوب ميل الآخر مع عكس الإشارة .

المستقيمات والزوايا :

أنواع الزوايا :



- الزاوية الحادة : هي زاوية قياسها أقل من ٩٠ درجة .

- الزاوية القائمة : هي زاوية قياسها ٩٠ درجة .

- الزاوية المنفرجة : هي زاوية قياسها أكبر من ٩٠ درجة وأقل من ١٨٠ درجة .

- الزاوية المستقيمة : هي زاوية قياسها ١٨٠ درجة

مستقيمة

الزوايا المتتامات :

تكون الزاويتان متتامتين إذا كان مجموعهما ٩٠ درجة .

الزوايا المتكاملات :

تكون الزاويتان متكاملتين إذا كان مجموعهما ١٨٠ درجة .

المستقيمات المتقاطعة :

- الزوايا المتجاورة متكاملات أي (أ + ل = ١٨٠ درجة)

- الزوايا الرأسية متساوية (تقابل بالرأس) أي (ك = ل)

المستقيمات المتوازية والمستقيم القاطع لها :

- المستقيم القاطع لمستقيمين متوازيين يكون أربع زوايا حادة

(أ ، د ، هـ ، ن) كلها متساوية . وأربع زوايا منفرجة (ب ، ج ، ك ، ل) كلها متساوية .

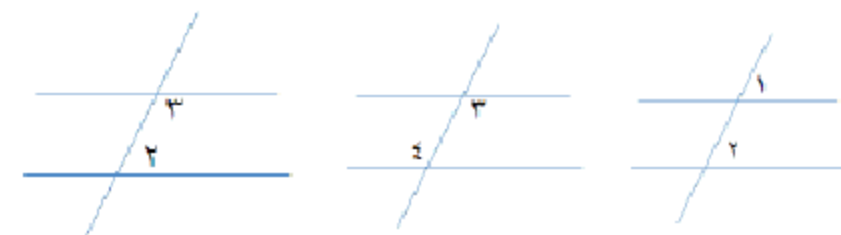
- أي زاوية حادة متكاملة مع أي زاوية منفرجة مثلاً أ مع ك متكاملتين .

إذا قطع مستقيم مستقيمين متوازيين فإن :

- كل زاويتين متناظرتين متساويتين . (الزاوية ١ = الزاوية ٢)

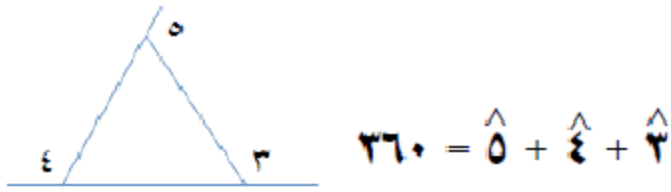
- كل زاويتين متبادلتين متساويتين . (الزاوية ٣ = الزاوية ٤)

- كل زاويتين داخلتين وفي جهة واحدة من القاطع مجموعهم ١٨٠ درجة .

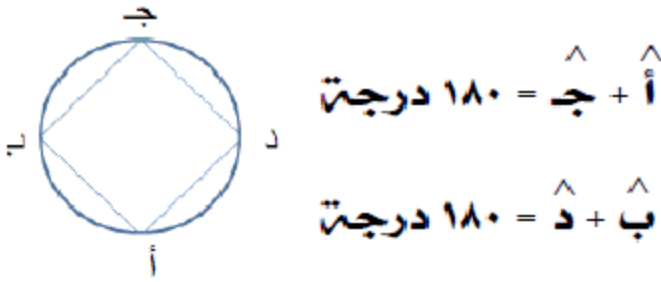


قياس الزاوية ٣ + قياس الزاوية ٢ = ١٨٠°

حقائق :



- مجموع الزوايا الخارجية للمثلث = 360 درجة



- في الشكل الرباعي الدائري فيه كل زاويتين متقابلتين مجموعتهما = 180 درجة

- مجموع زوايا المثلث الداخلية = 180 درجة .

- مجموع زوايا الشكل الرباعي = 360 درجة .

- مجموع زوايا أي مضلع = $(n - 2) \times 180$ حيث n = عدد الأضلاع

- لحساب الزاوية في مضلع منتظم = $\frac{180 \times (n - 2)}{n}$



- مجموع أي ضلعين في مثلث أكبر من الضلع الثالث .

- الزاوية الخارجة في مثلث = مجموع الزاويتين الداخليتين ما عدا المجاور لها .

نظرية فيثاغورث :



$$c^2 = a^2 + b^2$$

$$|c|^2 = |a|^2 + |b|^2$$

الأعداد الشهيرة في نظرية فيثاغورث :

(3, 4, 5), (6, 8, 10), (9, 12, 15), وهكذا

(5, 12, 13), (10, 24, 26), (15, 36, 39), وهكذا

في المثلث القائم الزاوية والمتطابق الضلعين :

يكون قياس زاويتي الحادتين = 45 درجة

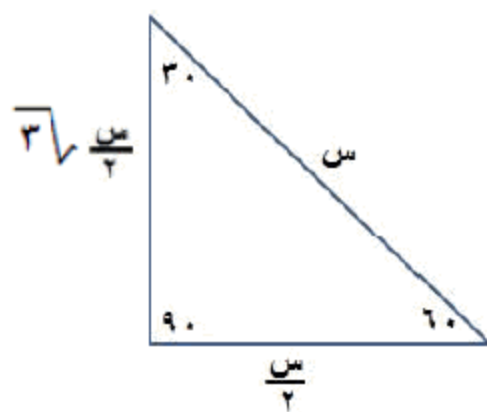
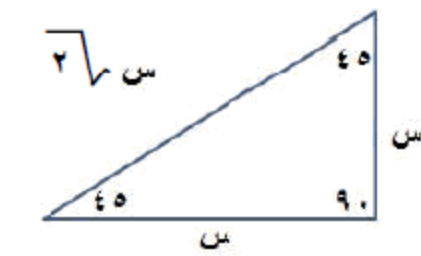
طول الوتر = طول أحد ضلعي الزاوية القائمة $\times \sqrt{2}$

طول ضلع الزاوية القائمة = $\frac{\text{طول الوتر}}{\sqrt{2}}$

المثلث الثلاثيني الستيني :

هو مثلث قائم الزاوية ، قياس زاويتي الحادتين هما 30 درجة ، 60 درجة ويكون

طول الضلع المواجه للزاوية 30 = $\frac{\text{طول الوتر}}{2}$



طول الضلع المواجه للزاوية 60 = $\frac{\sqrt{3}}{2} \times \text{طول الوتر}$

الدائرة :

محيط الدائرة = $2 \pi r$ مساحة الدائرة = πr^2

الزاوية المركزية :

هي زاوية يقع رأسها على مركز الدائرة (م)

قياس الزاوية المركزية = قياس القوس المحدد بين ضلعيها = $\hat{A} \text{ م ج}$ 

الزاوية المحيطية :

هي زاوية ضلعاها وتران في الدائرة ورأسها يقع على محيط الدائرة أ ب ج

الزاوية المركزية = $2 \times$ الزاوية المحيطية (المشتركة معها بالقوس)

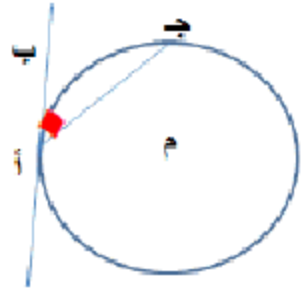
الزاوية المماسية :

هي زاوية رأسها على محيط الدائرة وأحد ضلعيها وتر في الدائرة والآخر مماس لهذه الدائرة

- قياس الزاوية المماسية = نصف قياس القوس المحدود بضلعيها على الدائرة .

- قياس الزاوية المماسية = نصف قياس الزاوية المركزية المشتركة معها في القوس .

- قياس الزاوية المماسية = قياس الزاوية المحيطية المشتركة معها في القوس .

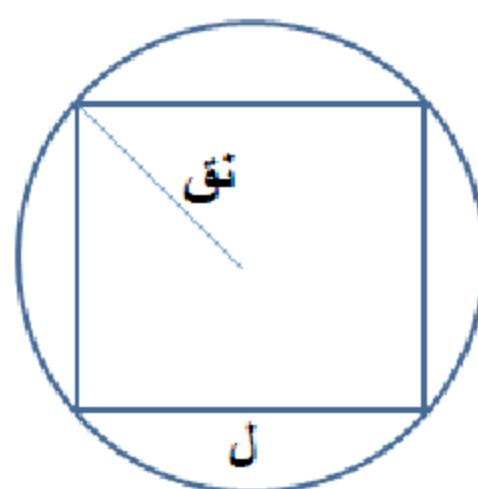


مثلث متساوي الأضلاع مرسوم داخل دائرة :



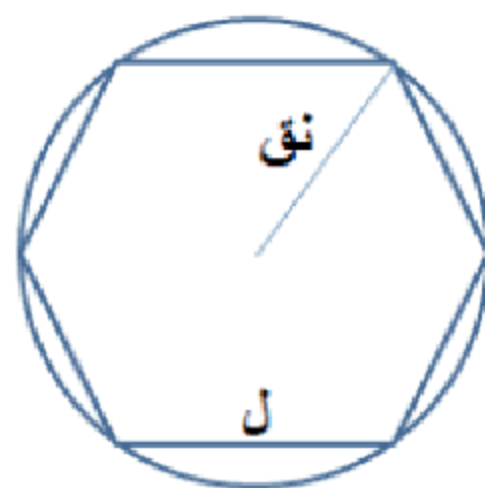
$$ل = ٣ \sqrt{٣} \times نق$$

مربع مرسوم داخل دائرة :



$$ل = \sqrt{٢} \times نق$$

سداسي منتظم مرسوم داخل دائرة :



$$ل = نق$$

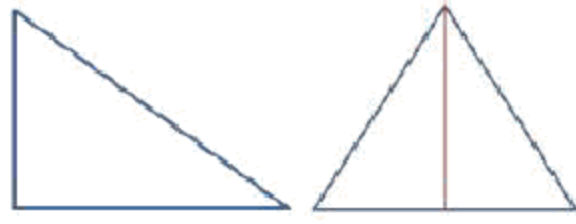
السداسي :

حيث (ل طول الضلع)

$$مساحة السداسي المنتظم = \frac{٣ \sqrt{٣}}{٢} ل^٢$$

المثلث :

مساحة المثلث بمعلومية قاعدته وارتفاعه :



$$م = \frac{1}{2} \times \text{القاعدة} \times \text{الارتفاع}$$

محيط المثلث = مجموع اطوال اضلاعه

محيط المثلث المتطابق الأضلاع = 3 × طول ضلعه

المثلث المتطابق الضلعان :

له ضلعان متساويان و تكون الزاويتان المقابلتان للضلعين المتساويين متساويتين .

المثلث المتطابق الأضلاع :

تكون جميع أضلاعه متساوية وكذلك جميع زواياه متساوية وكل زاوية تساوي 60 درجة .

المربع :



مساحة المربع = ل²

محيط المربع = 4 ل

حيث ل = طول الضلع

مساحة المربع بمعلومية قطره = $\frac{1}{2} \times (\text{القطر})^2$



المستطيل :

مساحة المستطيل = الطول × العرض

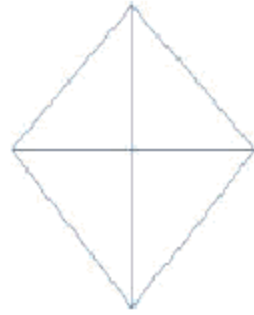
محيط المستطيل = 2 (الطول + العرض)

المعين :

مساحة المعين بمعلومية قطريته :

$$م = \frac{1}{2} \times (\text{طول القطر الأول}) \times (\text{طول القطر الثاني})$$

محيط المعين = 4 × طول ضلعه





متوازي الأضلاع :

مساحة متوازي الأضلاع :

$$م = ق \times ع = \text{القاعدة} \times \text{الارتفاع}$$

محيط متوازي الأضلاع :

$$\text{المحيط} = 2 \times (\text{مجموع طول الضلعين المتجاورين})$$



شبه المنحرف :

مساحة شبه المنحرف = نصف مجموع القاعدتين المتوازيتين \times الارتفاع

$$\text{مساحة شبه المنحرف} = ع \times \frac{ق_1 + ق_2}{2}$$

محيط شبه المنحرف = مجموع أطوال أضلاعه

حقائق :

المضلع المنتظم : هو مضلع فيه أضلاعه متطابقة وزواياه متطابقة

- عدد الأقطار الخارجة من إحدى رؤوس مضلع = $(ن - ٢)$ حيث ن عدد الأضلاع .

- عدد الأقطار في مضلع = $\frac{ن(ن - ٢)}{2}$

أمثلة على المضلع المنتظم :-

مثلث متساوي الأضلاع - المربع - الخماسي المنتظم - السداسي المنتظم .

محيط أي مضلع = مجموع أطوال أضلاعه

محيط المضلع المنتظم = طول ضلعه \times عدد أضلاعه

المجسمات :

المجسمات المضلعة :

مثل المكعب - متوازي المستطيلات - المنشور - الهرم

المجسمات غير المضلعة :

مثل الأسطوانة - المخروط - الكرة

متوازي المستطيلات :

مساحة سطح متوازي المستطيلات = ٤ (الطول × العرض) + ٢ (العرض × الارتفاع)

مساحة سطح متوازي المستطيلات = مجموع مساحة الأوجه الستة المستطيلة

حجم متوازي المستطيلات = الطول × العرض × الارتفاع

$$\text{طول القطر في متوازي المستطيلات} = \sqrt{(\text{العرض})^2 + (\text{الطول})^2 + (\text{الارتفاع})^2}$$

المكعب :

المساحة الجانبية = ٤ (طول الضلع)^٢

المساحة الكلية = ٦ (طول الضلع)^٢

حجم المكعب = (طول الضلع)^٣

الأسطوانة :

المساحة الجانبية = ٢ ط نق ع

المساحة الكلية = ٢ ط نق ع + ٢ ط نق^٢

حجم الأسطوانة = ط نق^٢ ع

حيث ع الارتفاع ، نق نصف قطر القاعدة

المخروط :

مساحة سطح المخروط = ط نق ل + ط نق²

حجم المخروط = $\frac{1}{3}$ ط نق² ع

حيث ل الراس ، ع الارتفاع ، نق نصف القطر

الكرة :

مساحة سطح الكرة = 4 ط نق²

حجم الكرة = $\frac{4}{3}$ ط نق³

الهرم :

المساحة الجانبية = $\frac{1}{2}$ محيط القاعدة × ارتفاع الوجه الجانبي

المساحة الكلية = المساحة الجانبية + مساحة القاعدة

الحجم = $\frac{1}{3}$ (مساحة القاعدة × الارتفاع)

المنشور :

المساحة الجانبية للمنشور القائم = محيط القاعدة × الارتفاع

المساحة الكلية للمنشور القائم = المساحة الجانبية + 2 مساحة القاعدة

حجم المنشور = مساحة القاعدة × الارتفاع